




# EL NUMERO 38

- Decodifica el número 38, luego ubica en el tablero posicional.
- Salta en la recta numérica hasta el número 38.
- Escribe el número 38.

38

D	U



38

treinta y ocho

- Coloca el signo de mayor, menor o igual donde corresponde.

$14 \underline{\hspace{1cm}} 12$

$25 \underline{\hspace{1cm}} 23$

$11 \underline{\hspace{1cm}} 9$

$30 \underline{\hspace{1cm}} 30$

$19 \underline{\hspace{1cm}} 20$

$27 \underline{\hspace{1cm}} 17$

$16 \underline{\hspace{1cm}} 16$

$18 \underline{\hspace{1cm}} 29$

$20 \underline{\hspace{1cm}} 23$

$32 \underline{\hspace{1cm}} 32$

$12 \underline{\hspace{1cm}} 6$

$54 \underline{\hspace{1cm}} 43$

$15 \underline{\hspace{1cm}} 15$

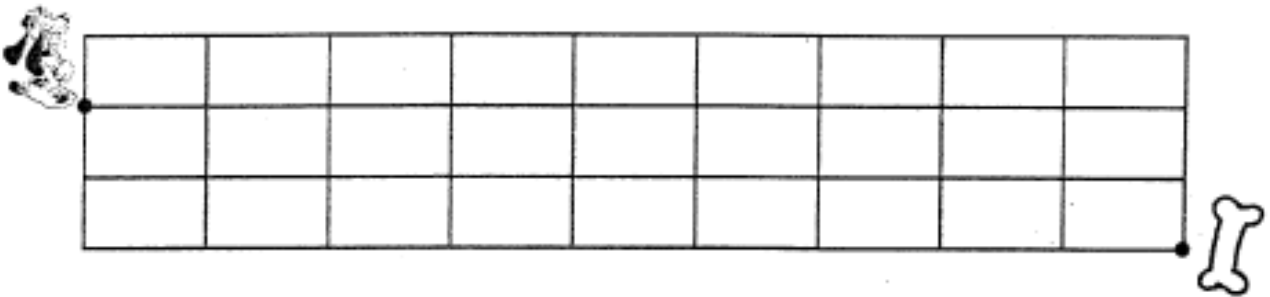
$18 \underline{\hspace{1cm}} 13$

$13 \underline{\hspace{1cm}} 20$


$14 \underline{\hspace{1cm}} 21$

- *Desplaza los puntos dados según el código dado en cada caso.*

El perrito debe llegar al punto donde está su hueso. ¿Cuál es el código del camino recorrido?



≡ || - ↑↑↑ ⇒ |||



↑↑ ≡ || ≡ ||||

