



- *Continúa la serie de la sustracción.*
- *Realiza las restas, sumas y escribe las respuestas en el casillero correspondiente.*

$10 \xrightarrow{-1} \bigcirc \xrightarrow{-0} \bigcirc \xrightarrow{-2} \bigcirc$	$8 \xrightarrow{-2} \bigcirc \xrightarrow{-3} \bigcirc \xrightarrow{-3} \bigcirc$
$9 \xrightarrow{-2} \bigcirc \xrightarrow{-1} \bigcirc \xrightarrow{-2} \bigcirc$	$10 \xrightarrow{-2} \bigcirc \xrightarrow{-2} \bigcirc \xrightarrow{-5} \bigcirc$

$-$ $\curvearrowright$	1
4	

$+$ $\curvearrowright$	2
2	

$+$ $\curvearrowright$	3
10	

$-$ $\curvearrowright$	2	5
10		

$-$ $\curvearrowright$	1	3
9		

$-$ $\curvearrowright$	2	4
8		

$-$ $\curvearrowright$	1	2
4		
2		

$-$ $\curvearrowright$	3	4
7		
8		

$+$ $\curvearrowright$	5	3
5		
6		

$-$ $\curvearrowright$	1	2	2
3			
5			

$-$ $\curvearrowright$	2	0	1
4			
6			

- Resuelve de arriba hacia abajo.

↪ - 3	
3	0
2	1
1	

↪ - 5	
1	
3	
4	

↪ - 5	
3	
1	
4	

↪ - 8	
3	
5	
4	

- *Resuelve de abajo hacia arriba.*

- 9	
16	
24	
10	
15	

- 7	
10	
17	
28	
36	

- 3	
43	
54	
65	
17	

- 5	
26	
15	
39	
68	

- Realiza las restas y completa en el casillero correspondiente.

$\overset{-}{\curvearrowright}$	5	4
18		
24		

$\overset{-}{\curvearrowright}$	2	3
49		
23		

$\overset{-}{\curvearrowright}$	2
34	
45	

$\overset{-}{\curvearrowright}$	6
51	
69	

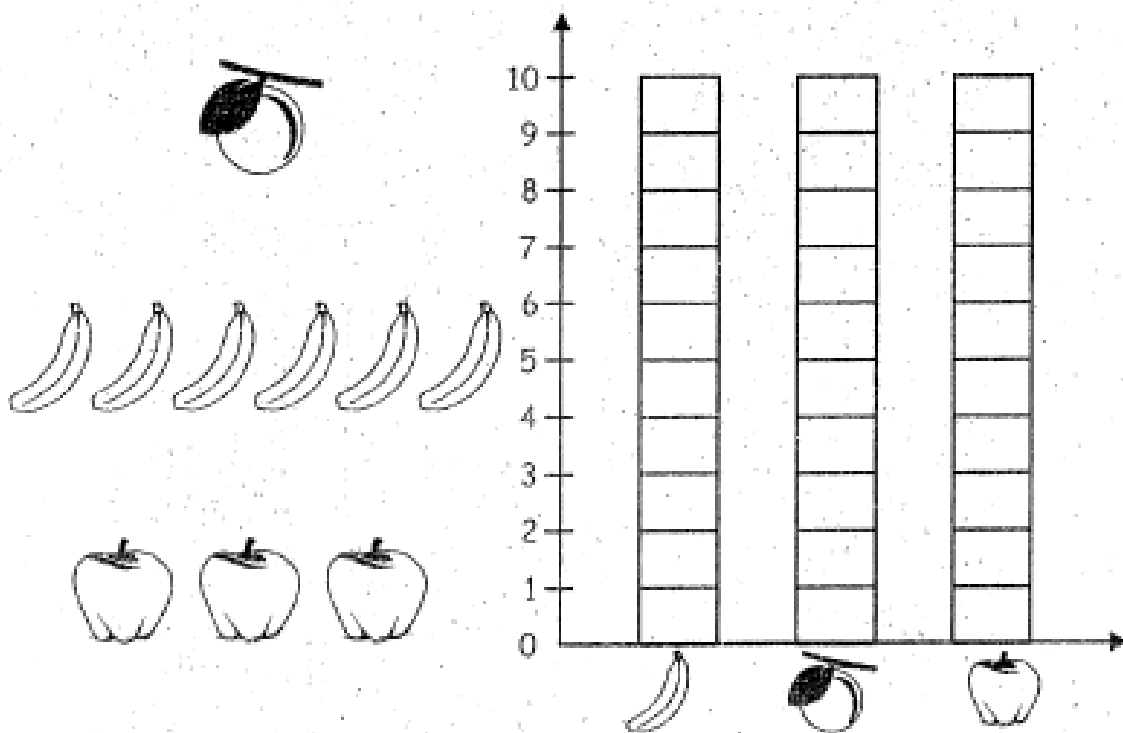
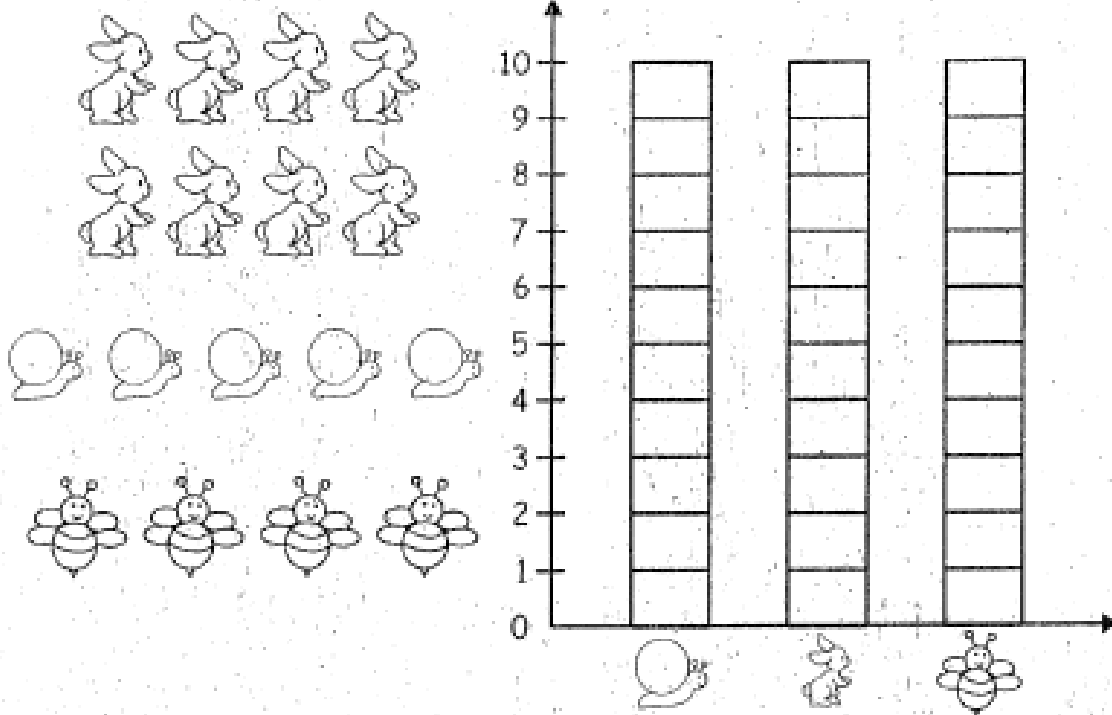
$\overset{-}{\curvearrowright}$	8
42	
44	

$\overset{-}{\curvearrowright}$	3	9
69		

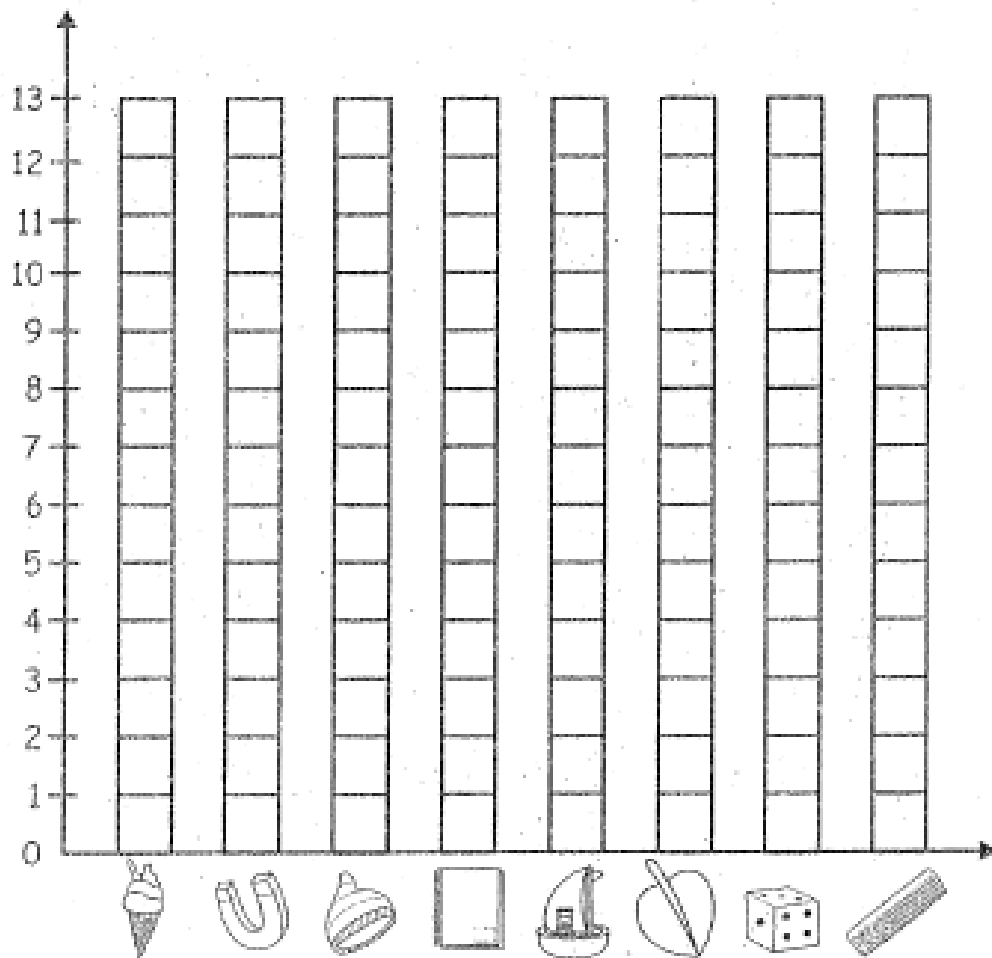
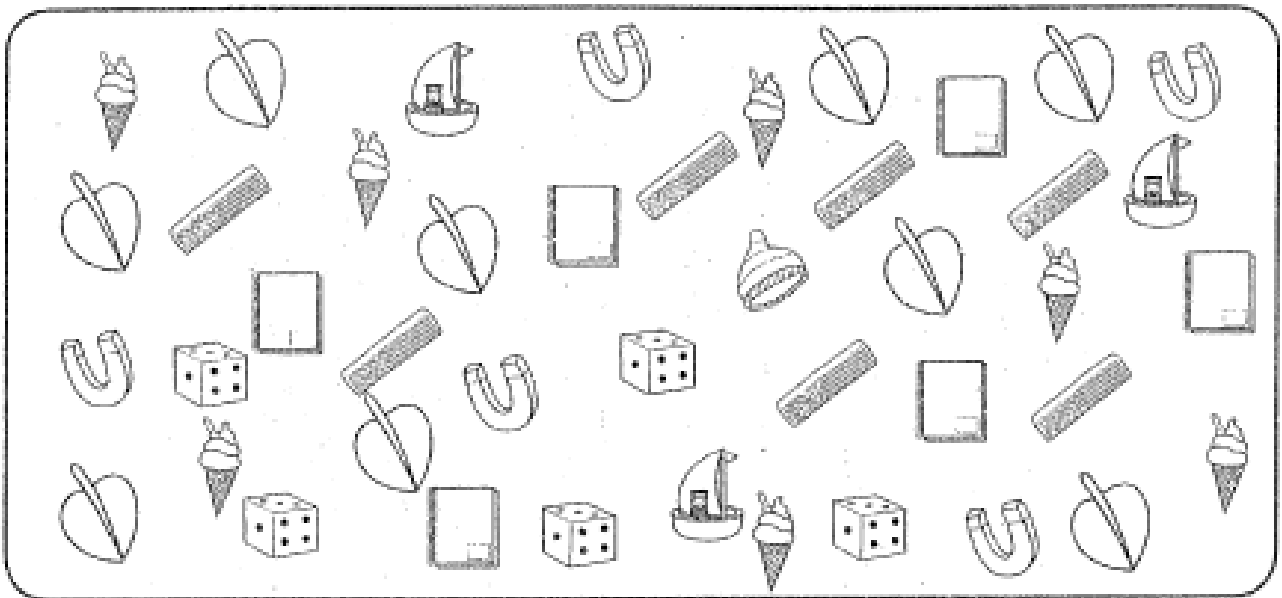
$\overset{-}{\curvearrowright}$	7	3
12		



- Cuenta el número de objetos que hay en cada grupo.
- Colorea un cuadro de las barras por cada objeto hallado utiliza colores.




- Cuenta y pinta en el gráfico de barras.



- *Elaboramos tablas y construcción de diagrama de barras.*
- *Reconoce una tabla de doble entrada y resuelve.*

• Preguntando el horario en el que mis amigos realizan sus tareas, obtuve las respuestas que aparecen marcadas con "x" en la tabla de doble entrada.



Horario \ Nombres	De 3:00 p.m. a 5:00 p.m.	De 4:00 p.m. a 6:00 p.m.	De 5:00 p.m. a 7:00 p.m.	De 6:00 p.m. a 8:00 p.m.
Miguel	X			
Raúl			X	
Félix				X
Jhony		X		
Francisco				X
Carlos	X			

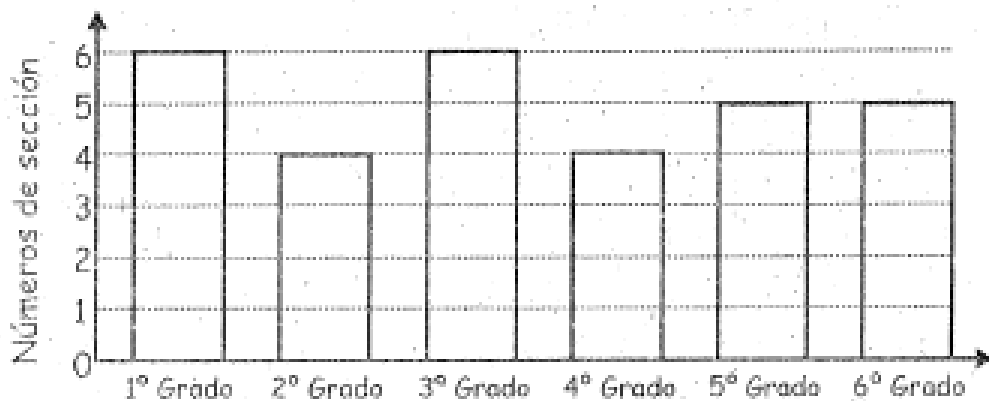
Luego:

Raúl realiza su tarea de: 5:00 p.m. a 7:00 p.m.

Francisco realiza su tarea de: 6:00 p.m. a 8:00 p.m.

Jhony realiza su tarea de: 4:00 p.m. a 6:00 p.m.

• Observa en un diagrama de barras, el número de secciones por cada grado de estudios.



• Completa. ¿Cuántas secciones hay en primer grado? 6

¿Cuántas secciones hay en segundo grado? 4

¿Cuántas secciones hay en cuarto grado? 4