
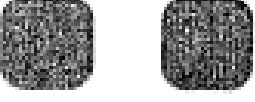



# LA DESCOMPOSICION DE NUMEROS

- *Escribe la descomposición de números.*
- *Escribe el número que falta en cada ejercicio.*

14 = 10 + 4	74 = _____
42 = _____	81 = _____
39 = _____	93 = _____
28 = _____	46 = _____
63 = _____	23 = _____
32 = _____	75 = _____

$10 + 6 = \square$		$20 + \square = 26$
$20 + \square = 21$		$30 + 3 = \square$
$10 + 7 = \square$		$40 + \square = 44$
$10 + \square = 15$		$30 + \square = 39$
$20 + \square = 24$		$50 + 3 = \square$
$40 + \square = 41$		$60 + 4 = \square$

- *Escribe la descomposición de números.*
- *Completa el cuadro colocando el número correspondiente.*

$24 = 2D4U.$

$13 = \underline{\hspace{2cm}}$

$39 = \underline{\hspace{2cm}}$

$26 = \underline{\hspace{2cm}}$

$46 = \underline{\hspace{2cm}}$

$86 = \underline{\hspace{2cm}}$

$73 = \underline{\hspace{2cm}}$

$32 = \underline{\hspace{2cm}}$

$81 = \underline{\hspace{2cm}}$

$41 = \underline{\hspace{2cm}}$

$55 = \underline{\hspace{2cm}}$

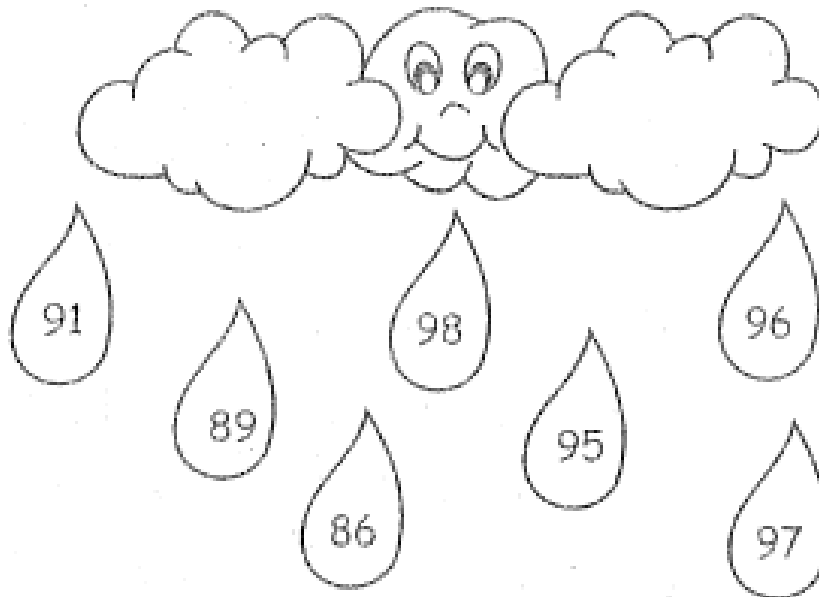
$63 = \underline{\hspace{2cm}}$

Número	Forma abreviada	Otra forma
15		
	4D3U	
		20 + 4
71		
		80 + 3



- Resuelve todos los ejercicios que encuentres aquí.

- Observa los números.



¿Qué número es menor?

¿Qué número es mayor?

- Ahora completa.

En forma creciente.

91						
----	--	--	--	--	--	--

En forma decreciente.

98						
----	--	--	--	--	--	--