




LOS NUMEROS 47 - 48 Y 49

- Representa el número 47 gráficamente.
- Escribe el número que va antes y des pues del 47.
- Escribe el número 47.

D	U
4	7



	47	
--	----	--

			<i>cuarenta y siete</i>
		
		
		
		
		

- Representa el número 48 gráficamente.
- Escribe el número que va antes y des pues del 48.
- Escribe el número 48.

D	U
4	8

	48	
--	----	--

48	48	• •	<i>cuarenta y ocho</i>
• •	• •	• •
• •	• •	• •
• •	• •	• •
• •	• •	• •


- Representa el número 49 gráficamente.
- Escribe el número que va antes y des pues del 49.
- Escribe el número 49.


D	U
4	9

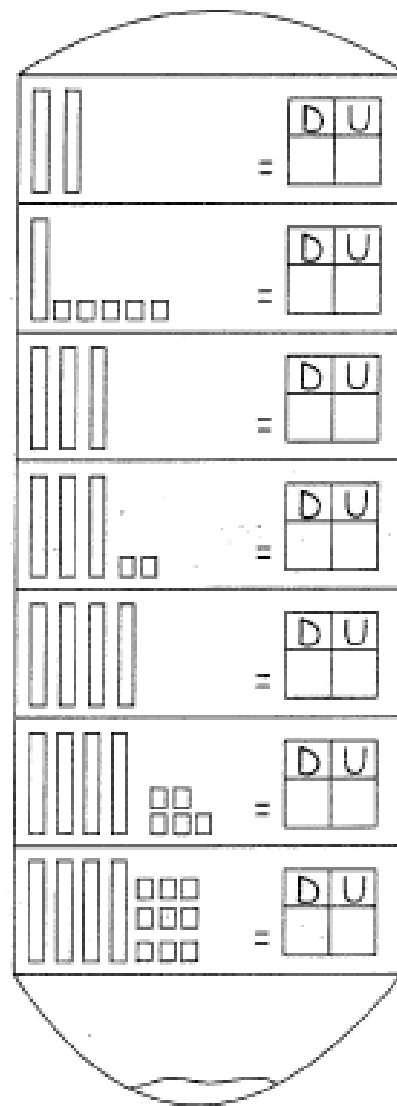
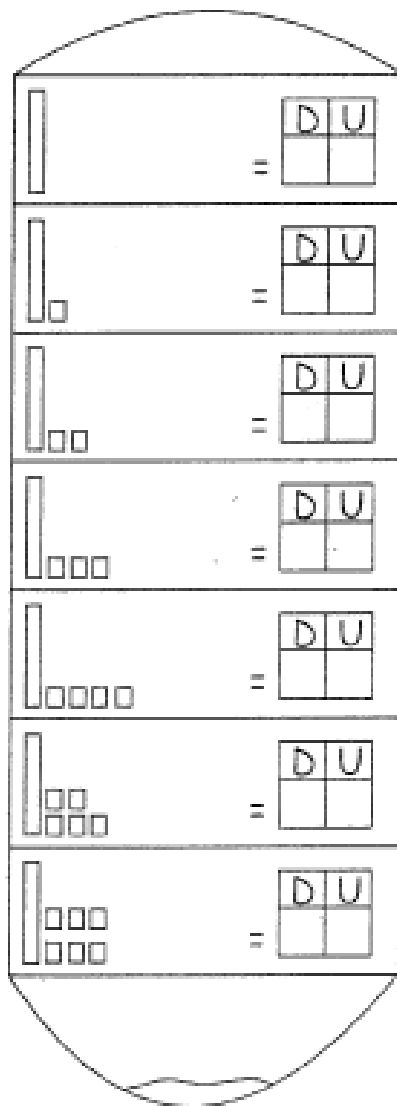
	49	
--	----	--

49	49	• •	<i>cuarenta y nueve</i>
• •	• •	• •	-----
• •	• •	• •	-----
• •	• •	• •	-----
• •	• •	• •	-----
• •	• •	• •	-----


- Representación gráfica y simbólica de números hasta 49.
- Codifica con el número que le corresponde.

Las decenas lo podemos representar mediante barritas 

Las unidades son mucho más pequeñas 



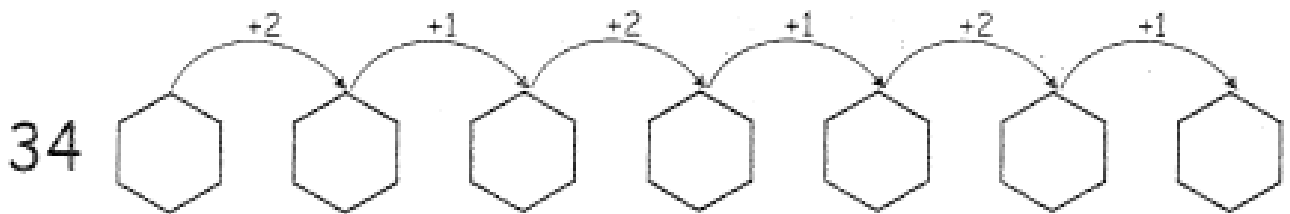
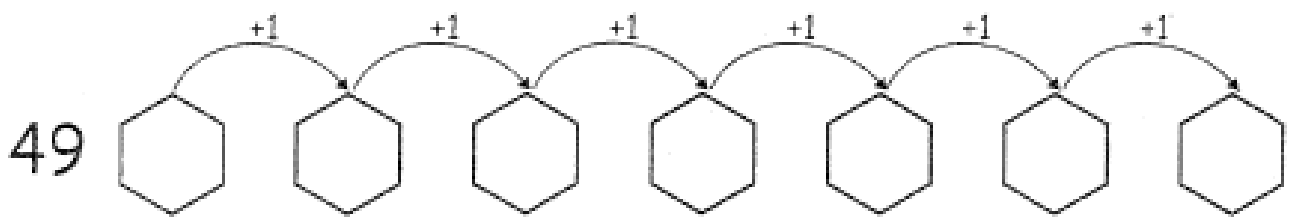
- Los decodificadores.
- Decodifica gráficamente los siguientes números.

<table border="1"> <thead> <tr> <th>D</th> <th>U</th> </tr> </thead> <tbody> <tr> <td>3</td> <td>1</td> </tr> </tbody> </table> 	D	U	3	1	<table border="1"> <thead> <tr> <th>D</th> <th>U</th> </tr> </thead> <tbody> <tr> <td>4</td> <td>0</td> </tr> </tbody> </table>	D	U	4	0
D	U								
3	1								
D	U								
4	0								
<table border="1"> <thead> <tr> <th>D</th> <th>U</th> </tr> </thead> <tbody> <tr> <td>3</td> <td>2</td> </tr> </tbody> </table>	D	U	3	2	<table border="1"> <thead> <tr> <th>D</th> <th>U</th> </tr> </thead> <tbody> <tr> <td>4</td> <td>1</td> </tr> </tbody> </table>	D	U	4	1
D	U								
3	2								
D	U								
4	1								
<table border="1"> <thead> <tr> <th>D</th> <th>U</th> </tr> </thead> <tbody> <tr> <td>3</td> <td>4</td> </tr> </tbody> </table>	D	U	3	4	<table border="1"> <thead> <tr> <th>D</th> <th>U</th> </tr> </thead> <tbody> <tr> <td>4</td> <td>3</td> </tr> </tbody> </table>	D	U	4	3
D	U								
3	4								
D	U								
4	3								
<table border="1"> <thead> <tr> <th>D</th> <th>U</th> </tr> </thead> <tbody> <tr> <td>3</td> <td>6</td> </tr> </tbody> </table>	D	U	3	6	<table border="1"> <thead> <tr> <th>D</th> <th>U</th> </tr> </thead> <tbody> <tr> <td>4</td> <td>5</td> </tr> </tbody> </table>	D	U	4	5
D	U								
3	6								
D	U								
4	5								
<table border="1"> <thead> <tr> <th>D</th> <th>U</th> </tr> </thead> <tbody> <tr> <td>3</td> <td>8</td> </tr> </tbody> </table>	D	U	3	8	<table border="1"> <thead> <tr> <th>D</th> <th>U</th> </tr> </thead> <tbody> <tr> <td>4</td> <td>7</td> </tr> </tbody> </table>	D	U	4	7
D	U								
3	8								
D	U								
4	7								
<table border="1"> <thead> <tr> <th>D</th> <th>U</th> </tr> </thead> <tbody> <tr> <td>3</td> <td>9</td> </tr> </tbody> </table>	D	U	3	9	<table border="1"> <thead> <tr> <th>D</th> <th>U</th> </tr> </thead> <tbody> <tr> <td>4</td> <td>9</td> </tr> </tbody> </table>	D	U	4	9
D	U								
3	9								
D	U								
4	9								

- *Completa la serie.*
- *Escribe los signos de mayor, menor o igual según corresponda.*

10					15			18	
20	21			24		26			29
30	31		33		35		37	38	
40		42		44		46		49	

20 29 32 43 38 48
 20 19 44 50 46 37
 34 21 31 49 48



- *Resuelve los ejercicios.*

$$\square \leftarrow 41$$

$$\square \leftarrow 49$$

$$\square \leftarrow 35$$

$$\square \leftarrow 51$$

$$\square \leftarrow 58$$

$$\square \leftarrow 46$$

$$\square \leftarrow 50$$

$$\square \leftarrow 34$$

$$\square \leftarrow 43$$

$$\square \leftarrow 47$$

$$\square \leftarrow 25$$

$$\square \leftarrow 54$$

- *Escribe los signos de mayor, menor o igual según corresponda.*

