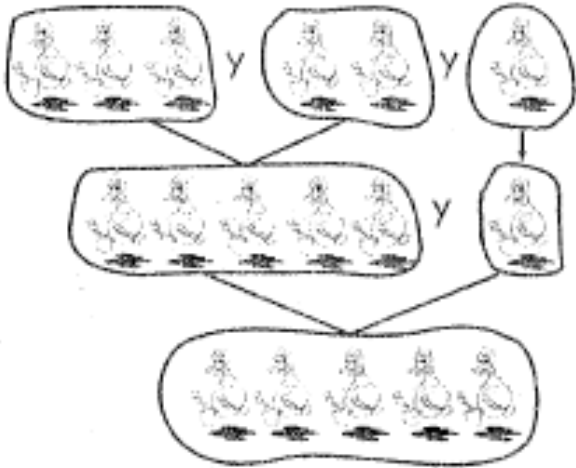


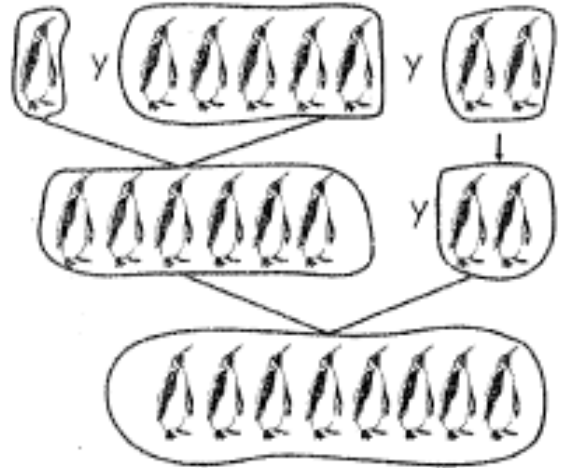
SUMAMOS ASOCIANDO

- Resolvemos las sumas asociando, observamos los ejemplos.



• Es decir:

$$\begin{array}{c}
 3 + 2 + 1 \\
 \swarrow \quad \searrow \\
 5 + 1 \\
 \swarrow \quad \searrow \\
 \boxed{6}
 \end{array}$$










• Es decir:

$$\begin{array}{c}
 1 + 5 + 2 \\
 \swarrow \quad \searrow \\
 6 + 2 \\
 \swarrow \quad \searrow \\
 \boxed{8}
 \end{array}$$

$1 + 4 + 3$ 	$2 + 3 + 2$ 	$3 + 1 + 2$ 	$4 + 0 + 1$
$6 + 2 + 1$ 	$5 + 2 + 0$ 	$2 + 5 + 1$ 	$2 + 2 + 2$

- *Continuamos resolviendo problemas de la adición.*

Tengo  y	
me regalan 	
¿Cuántos  hay?	
Operación:	Respuesta:


Hay  en la 	
y me regalan 	
¿Cuántos  hay?	
Operación:	Respuesta:

- Resuelve los problemas, colocando los números que correspondan en los casilleros.

Antony tiene  volando


y  en su jaula.

$$\boxed{} + \boxed{} = \boxed{}$$


Respuesta: Antony tiene _____  en total.

La vaca Lola tiene  manchitas

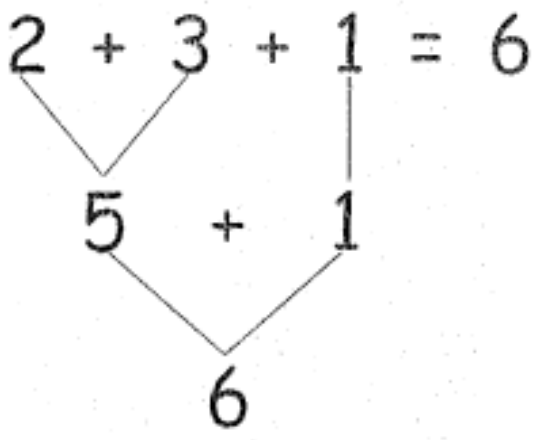
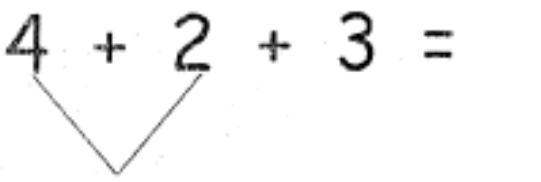
y su ternerito tiene  manchitas.

¿Cuántas  tienen los dos juntos?

$$\boxed{} + \boxed{} = \boxed{}$$

Respuesta: Las dos vaquitas tienen _____  en total.

- Resuelve las operaciones de la adición.


$2 + 3 + 1 = 6$ 	$4 + 2 + 3 =$ 
$6 + 2 + 1 =$	$3 + 3 + 3 =$
$7 + 4 + 2 =$	$5 + 5 + 2 =$

- Continuamos resolviendo los problemas.

• Compré 8



y 6



¿Cuántas frutas tengo?

$$\square + \square = \square$$

• Tengo 5



y me regalan 6



¿Cuántos patos tengo ahora?


$$\square + \square = \square$$

• Gané 7



y

luego gané 3



más

¿Cuántas flores tengo?

$$\square + \square = \square$$

• Mueren 8



luego mueren 7

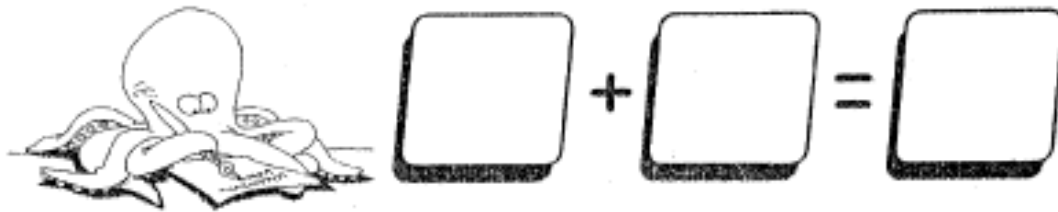


¿Cuántas mariposas murieron?

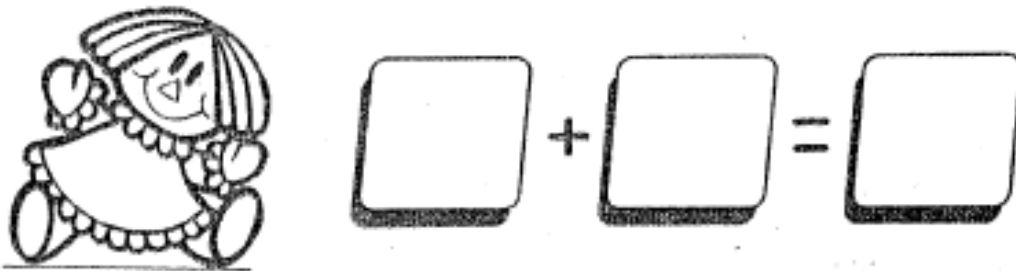
$$\square + \square = \square$$

- *Resolvemos los problemas de la suma.*

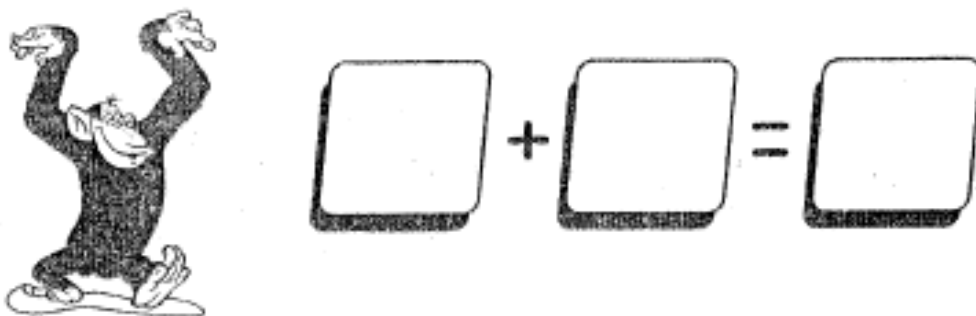
- En un acuario hay 2 pulpos y luego nacieron tres pulpos más.
¿Cuántos pulpos hay en total?



- Rosario tiene 3 muñecas y le regalan 4 muñecas más.
¿Cuántas hay en total?



- En el parque de las leyendas hay 4 monos y traen 2 monos más.
¿Cuántos monos hay?



- Entramos los resultados de los problemas.

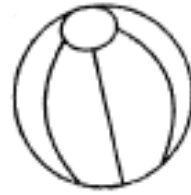
- En una pecera hay 5 peces y luego nacieron 2 peces más. ¿Cuántos peces hay en total?

$$\square + \square = \square$$



- Jhony tiene 3 pelotas y le regalan 2 más. ¿Cuántas pelotas tiene ahora?

$$\square + \square = \square$$



- En un circo hay 4 payasos y contratan 2 payasos más. ¿Cuántos payasos hay?

$$\square + \square = \square$$



- Marco compró 6 lápices de color rojo y 5 lápices azules. ¿Cuántos lápices compró?

$$\square + \square = \square$$



- Guisela tiene 4 bolitas y Milagros le regala 5 bolitas más. ¿Cuántas bolitas tiene en total Guisela?

$$\square + \square = \square$$

