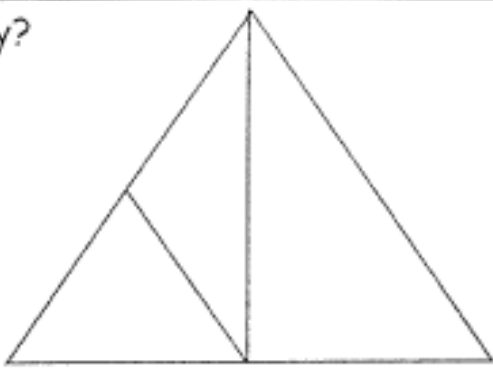
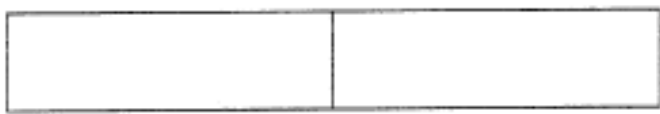
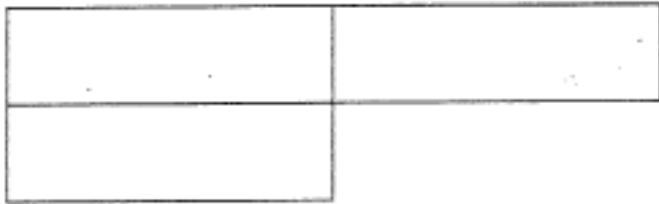
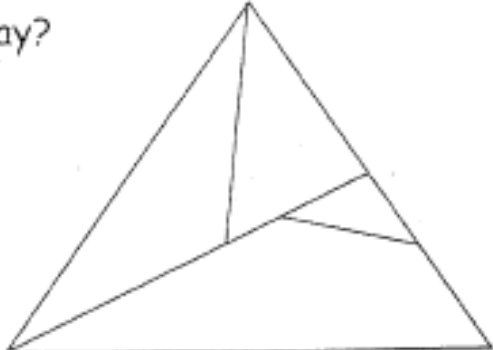
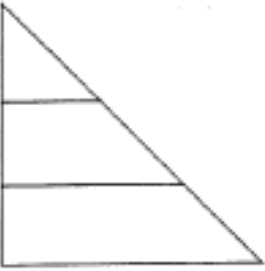
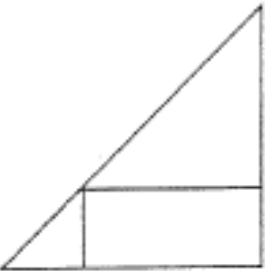
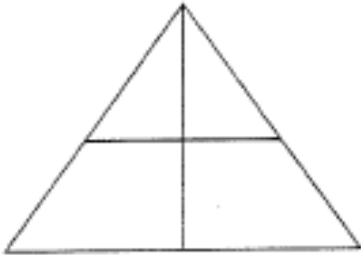

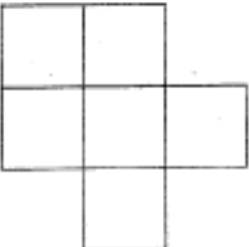


CONTEO DE FIGURAS

- Cuenta y marca la respuesta correcta.

<p>• ¿Cuántos \triangle hay?</p>		<p>a) 2 b) 3 c) 4 d) 5</p>
<p>• ¿Cuántos \square hay?</p>		<p>a) 3 b) 4 c) 5 d) 6</p>
<p>• ¿Cuántos \square hay?</p>		<p>a) 2 b) 3 c) 4 d) 5</p>
<p>• ¿Cuántos \triangle hay?</p>		<p>a) 5 b) 4 c) 6 d) 7</p>

- Encierra en un círculo la respuesta correcta.

<p>• ¿Cuántos \triangle hay?</p>		<p>a) 4 b) 2 c) 1 d) 3</p>
<p>• ¿Cuántos \triangle hay?</p>		<p>a) 4 b) 2 c) 3 d) 5</p>
<p>• ¿Cuántos \triangle hay?</p>		<p>a) 4 b) 2 c) 1 d) 3</p>
<p>• ¿Cuántos \square hay?</p>		<p>a) 4 b) 5 c) 6 d) 3</p>
<p>• ¿Cuántos \square hay?</p>		<p>a) 7 b) 6 c) 5 d) 4</p>