


EL DÍA Y LA NOCHE



- **Comenta:**

- ¿Qué cosas hacemos en el día?
- ¿qué cosas hacemos en la noche?

- **Lee:**

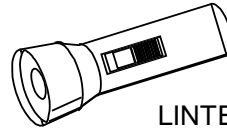
La tierra es redonda. Recibe la luz del Sol. La parte de la Tierra que recibe la luz del Sol, está de día. La parte opuesta está de noche.

La Tierra gira como un trompo, de tal manera que todos los lugares del mundo pasan del día a la noche y de la noche al día.

- **Observa:**



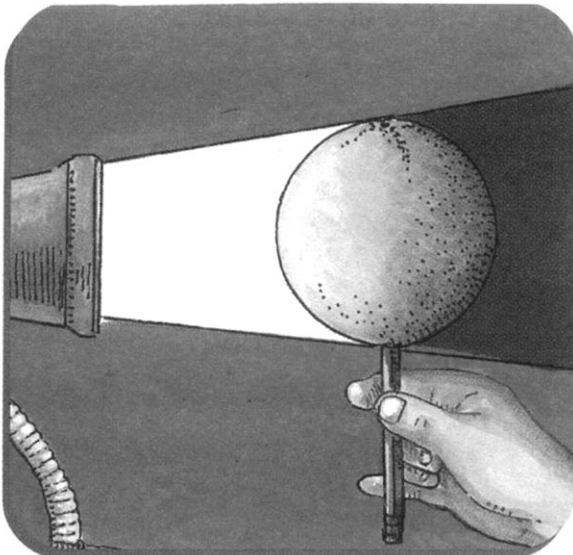
GLOBO TERRÁQUEO



LINTERNA

Gira despacio el globo terráqueo y di cómo suceden los días y las noches

Experiencia:



Materiales:

- Un limón o naranja.
- Una lámpara

Procedimiento:

- Inserto el lápiz en la naranja o el limón y luego lo coloco frente a la lámpara. Hago que la naranja gire sobre sí misma.
- ¿Queda iluminada toda la naranja?



Así como la naranja, nuestro planeta Tierra gira alrededor de sí misma frente al Sol de tal forma que la parte iluminada por el Sol está de día y la parte que no es iluminada está de noche.

Recuerdo:

El movimiento de **rotación** de la Tierra, da lugar al día y a la noche. La Tierra demora 24 horas en dar la vuelta sobre su eje.

CADA VUELTA DEMORA 24 HORAS: UN DÍA

¿QUÉ HAGO EN UN DÍA?

Observa:






- **Contesta oralmente.**

- ¿Qué actividades hace Lía antes de ir al colegio?
- ¿Qué hace en el colegio?
- ¿Qué hace después del colegio?
- Y tú ¿qué haces en un día?

- Dibuja lo que haces antes y después del almuerzo.

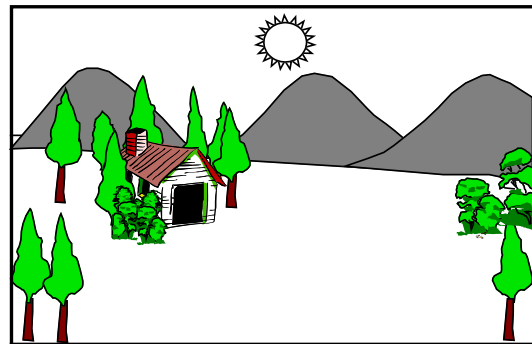

ANTES

DESPUÉS



¿DÓNDE ESTÁ EL SOL?

- Escribe las palabras del recuadro donde corresponda:

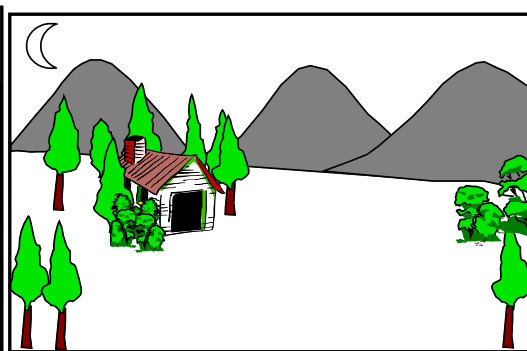



El sol sale es el

El sol está en el cielo es el

.....

.....



El sol está ocultándose es el

El sol se ha ocultado es la

.....

.....

ATARDECER

MEDIODÍA

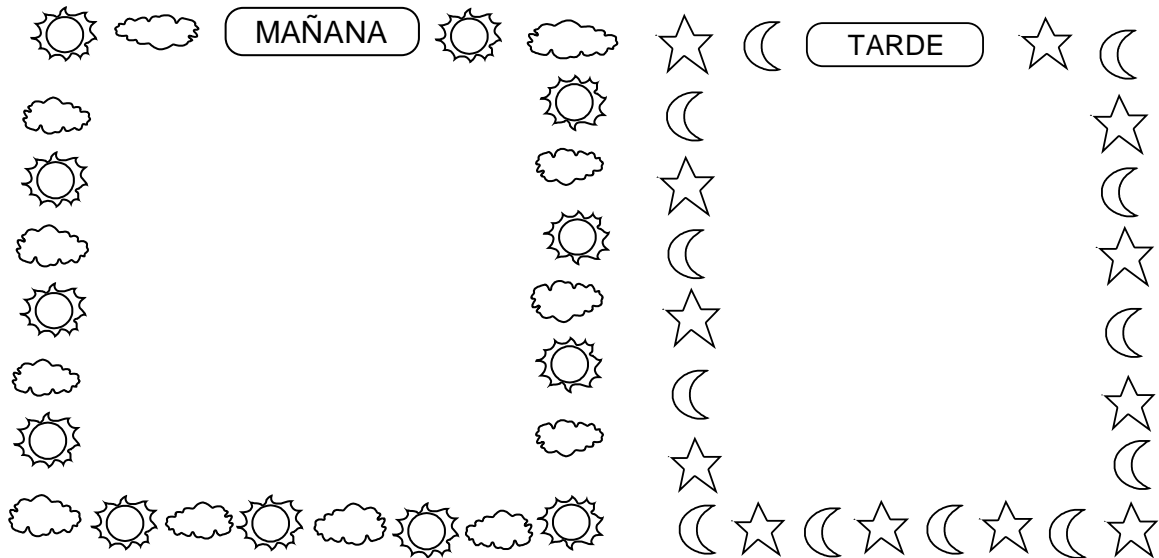
AMANECER

NOCHE

EL DÍA

El día se divide en MAÑANA, TARDE y NOCHE. La mañana empieza con el amanecer, la tarde con el mediodía y la noche cuando oscurece.

- Dibuja y pinta en los recuadros lo que más te gusta hacer en las mañanas y en las tardes.



Práctica de clase

Escribe V o F según corresponda

- El movimiento de rotación da lugar al día y a la noche ()
- Si en el Perú esta de noche todo el planeta está de noche ()
- El movimiento de rotación demora 24 horas ()
- El sol es una estrella pequeña ()
- La luna tiene dos fases ()

TAREA DOMICILIARIA

- Marca con una **x** el sol si la acción ocurre de día y la luna si ocurre de noche.

