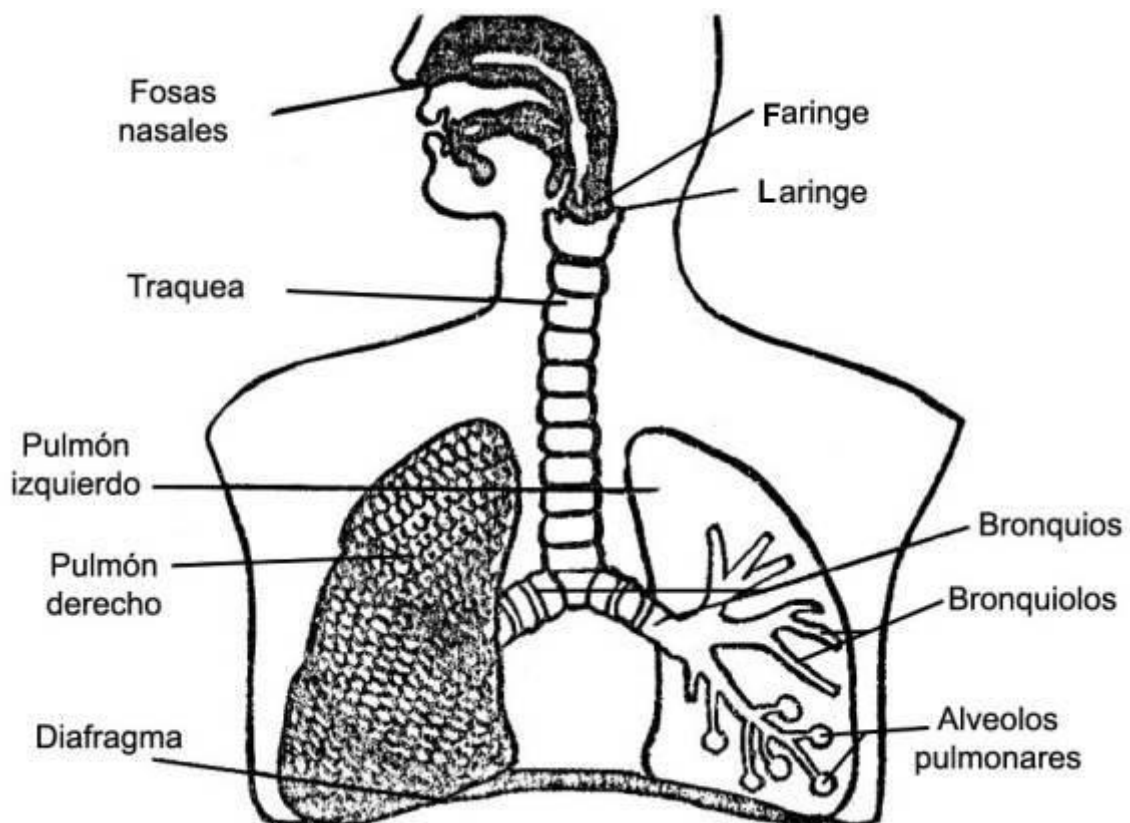


NUESTRO SISTEMA RESPIRATORIO

El Sistema Respiratorio, es el encargado de llevar el oxígeno a cada una de las partes del cuerpo humano mediante la respiración.

El Sistema Respiratorio está formado por los siguientes órganos:

- a) **VIAS RESPIRATORIAS:** nariz, faringe, laringe, tráquea y bronquios.
- b) **PULMONES:** Son dos cuerpos blandos y esponjosos de color rosado. El pulmón derecho es más grande que el izquierdo.



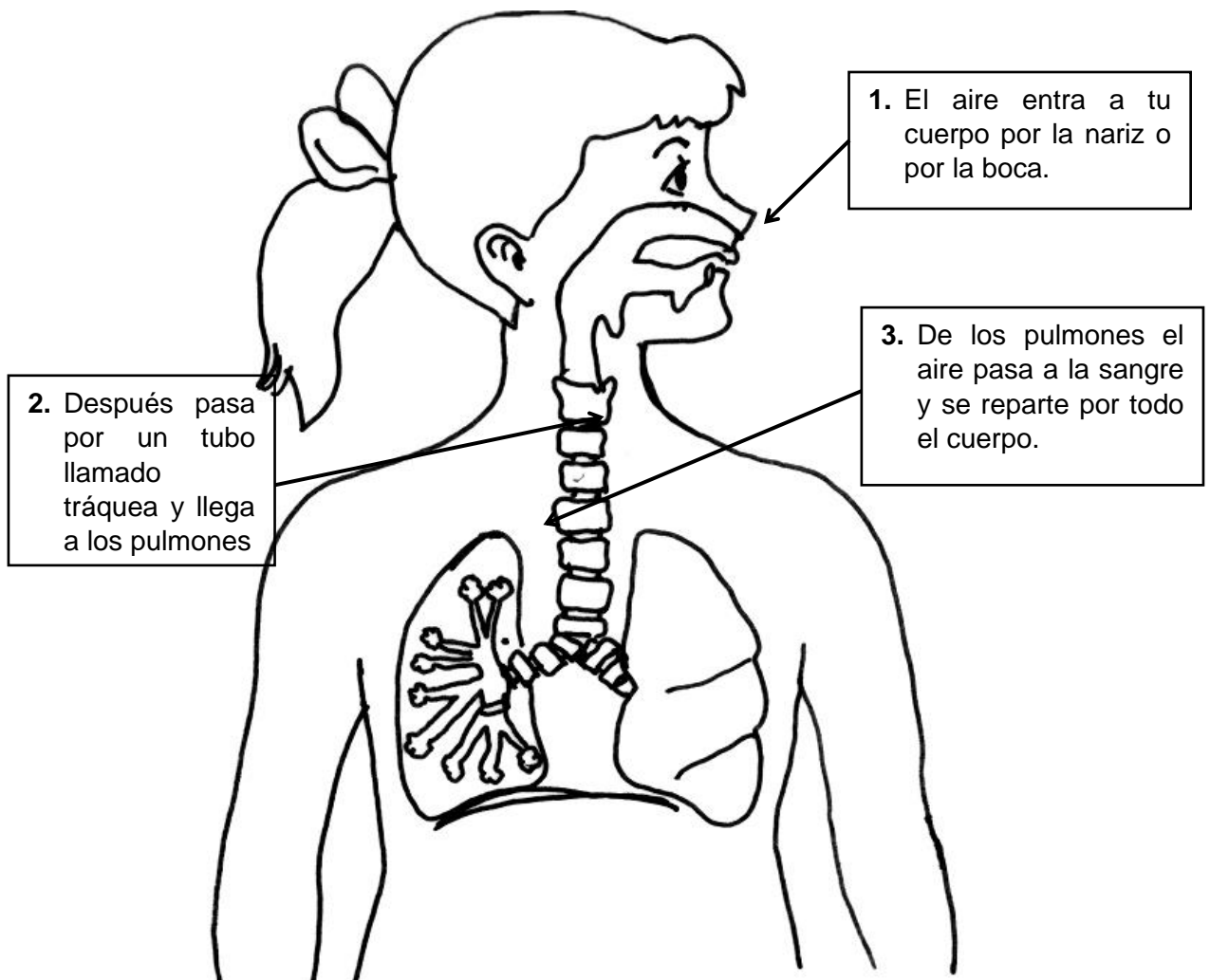
El proceso de inspirar y espirar se llama **respirar**.

HIGIENE DEL SISTEMA RESPIRATORIO

- Es muy conveniente respirar por la nariz, ya que ella tiene la misión de purificar, calentar y humedecer el aire.
- Debemos evitar enfriamientos usando ropa adecuada y abrigándonos cuando sea necesario.
- Practicar deportes, tener las habitaciones siempre bien ventiladas y nunca aprendas a fumar ya que el cigarrillo es el peor enemigo de tus pulmones.
- Evitar los lugares contaminados, asimismo, evitar el polvo.

Práctica de clase

01. Observa la lámina, lee y completa los textos. Pinta con color amarillo el camino que sigue el aire hasta los pulmones.



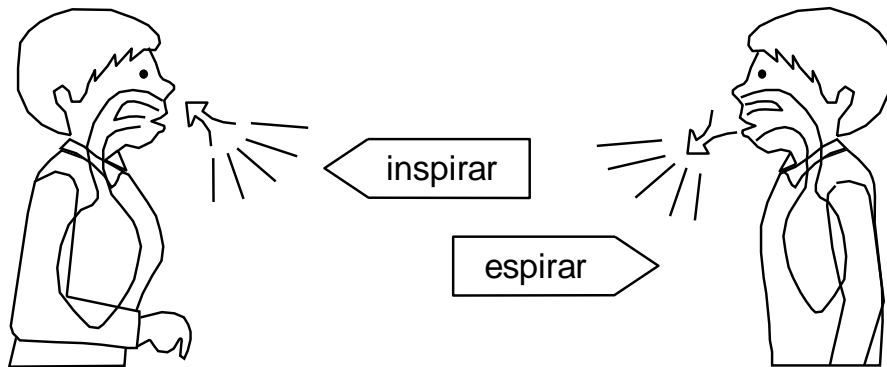
02. Realiza la siguiente actividad:

- Pide a un amigo que respire profundamente y retenga el aire.
- Mídele el contorno del pecho con una cinta métrica.
- Dile que bote el aire y mídelo nuevamente.

Con aire cm, y sin aire cm.

Los pulmones son como globos, cuando entra el aire se inflan y cuando sale se desinflan.

03. Compara la actividad que realizaste con las siguientes ilustraciones y completa.



- Al..... el aire entra a nuestros pulmones y al el aire sale de ellos.

04. Coloca las siguientes definiciones:

- son dos órganos de color rosado situadas en el interior de la caja torácica.
- A través de la pasa el aire de las fosas nasales a la tráquea.
- La entrada del aire a los pulmones se llama y la salida
- La es vital para los seres vivos.
- La se cierra cuando pasan los alimentos evitando que estos penetren en el sistema respiratorio.

Pildoritas

Sabias que ...

La inhalación introduce en los pulmones aire con una concentración elevada de oxígeno y baja en dióxido de carbono; el aire espirado que procede de los pulmones tiene una concentración elevada de dióxido de carbono y baja en oxígeno. Los

TAREA DOMICILIARIA

01. Investiga:

- ¿Por qué no podemos respirar por la nariz cuando estamos resfriados?

.....

.....

02. Busca en el pupiletras los órganos que conforman el sistema digestivo.

- Fosas Nasales
- Faringe
- Tráquea
- Bronquios
- Pulmones

P	P	P	T	R	A	Q	U	E	A	L	S	T
F	O	S	A	S	N	A	S	A	L	E	S	O
A	G	E	E	U	F	H	I	J	K	L	M	N
R	N	A	B	R	O	N	Q	U	I	O	S	T
I	R	T	R	P	C	L	Z	M	O	G	B	T
N	A	K	M	Ñ	S	E	N	O	M	L	U	P
G	O	R	L	A	I	I	O	F	H	I	J	K
E	N	T	N	A	R	I	Z	U	R	S	T	U
T	T	U	F	P	G	O	F	A	E	T	E	O

03. Marca la respuesta correcta:

- | | Si | No |
|--|--------------------------|--------------------------|
| • tapándote la boca y respirando por la nariz. | <input type="checkbox"/> | <input type="checkbox"/> |
| • tapándote la nariz y respirando por la boca. | <input type="checkbox"/> | <input type="checkbox"/> |
| • tapándote la nariz y cerrando la boca. | <input type="checkbox"/> | <input type="checkbox"/> |

• ¿Cuándo no puedes respirar?

.....

04. Coloca los nombres de los órganos que corresponden al sistema respiratorio.

