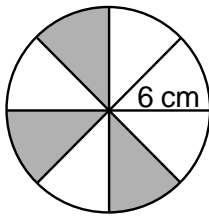


# ÁREAS SOMBREADAS

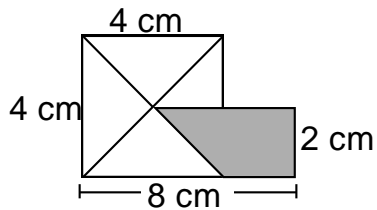
Para hallar el área de una región sombreada, debes hacer uso de tu razonamiento y de las fórmulas aprendidas.

## Práctica de clase

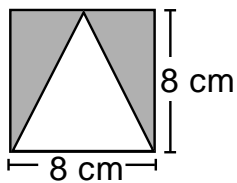
1. Hallar el área de la región sombreada:



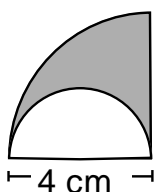
2. Hallar el área de la región sombreada:



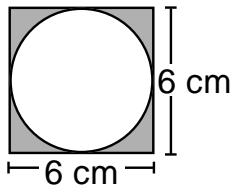
3. Hallar el área de la región sombreada:



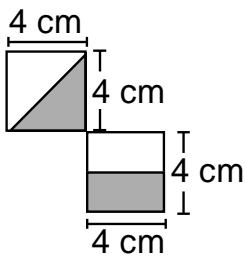
4. Hallar el área de la región sombreada:



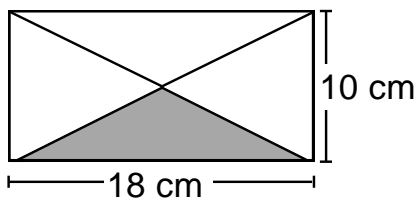
5. Hallar el área de la región sombreada:



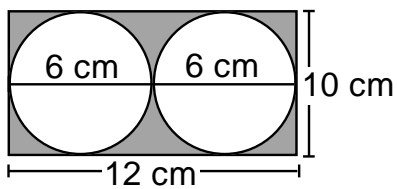
6. Hallar el área de la región sombreada:



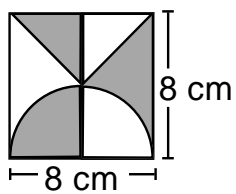
7. Hallar el área de la región sombreada:



8. Hallar el área de la región sombreada:



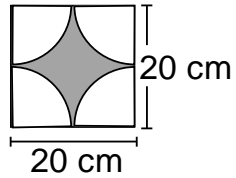
9. Hallar el área de la región sombreada:



## ejercicios

Hallar el área de las regiones sombreadas:

01. Hallar el área de la región sombreada:



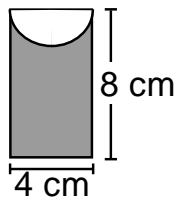
a)  $68 \text{ cm}^2$

b)  $86 \text{ cm}^2$

c)  $56 \text{ cm}^2$

d) N.a.

02. Hallar el área de la región sombreada:



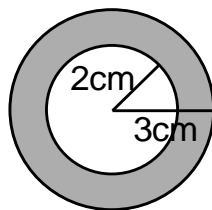
a)  $26,72 \text{ cm}^2$

b)  $25,72 \text{ cm}^2$

c)  $68,72 \text{ cm}^2$

d) N.a.

03. Hallar el área de la región sombreada:



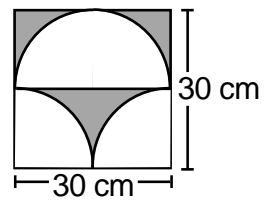
a)  $12,56 \text{ cm}^2$

b)  $15,7 \text{ cm}^2$

c)  $28,26 \text{ cm}^2$

d) N.a.

04. Hallar el área de la región sombreada:



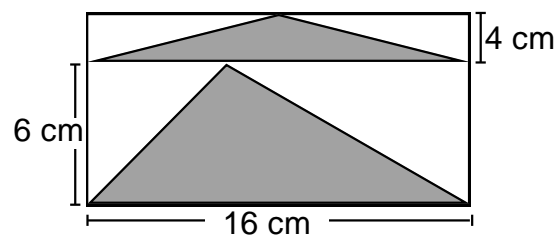
a)  $193,6 \text{ cm}^2$

b)  $193,5 \text{ cm}^2$

c)  $180,5 \text{ cm}^2$

d) N.a.

5. Hallar el área de la región sombreada:



a)  $60 \text{ cm}^2$

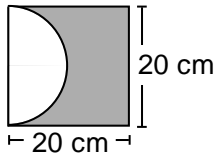
b)  $80 \text{ cm}^2$

c)  $50 \text{ cm}^2$

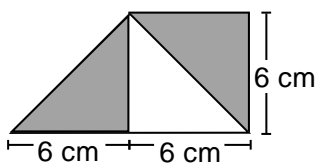
d) N.a.

TAREA DOMICILIARIA

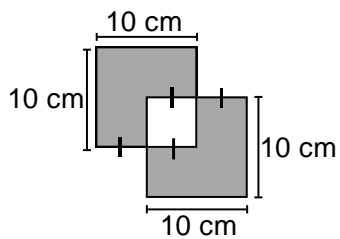
1. Hallar el área de la región sombreada:



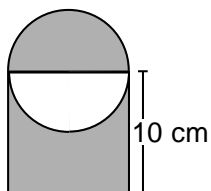
2. Hallar el área de la región sombreada:



3. Hallar el área de la región sombreada:



4. Hallar el área de la región sombreada:



5. Hallar el área de la región sombreada:

