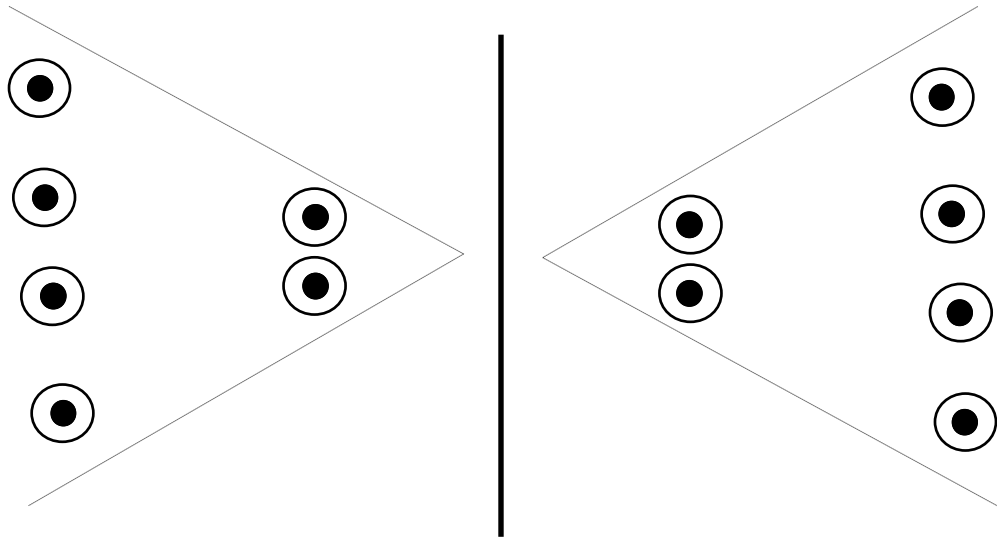


# COMPARACIÓN DE NÚMEROS



$$\boxed{4} > \boxed{2}$$

$$\boxed{2} < \boxed{4}$$

Se lee:

4 es mayor que 2

2 es menor que 4

## Practica de clase

1. Encierra el número **mayor** de cada serie:

45    54    26

64    46    37

75    57    81

17    71    59

49    86    96

85    58    69

78    87    89

59    71    68

18    81    79

2. Encierra el número **menor** de cada serie:

18    81    23

52    49    61

81    76    67

83    38    41

42    53    35

31    28    82

62    95    59

69    96    71

57    75    61

3. Encierra los numerales mayores que 56.

92    31    52    17    12    65

4. Encierra los numerales menores que 78.

75    39    72    91    28    87

5. Piensa y completa:

a) Dos numerales mayores que 37.....; .....

b) Dos numerales menores que 53.....; .....

c) Número mayor que 3D + 5U: .....

6. Compara y completa:

a) 38 .....36 se lee: .....

b) 54 ..... 61 se lee:.....

c) 75 ..... 87 se lee: .....

d) 83 ..... 69 se lee: .....

e) 47 ..... 53 se lee: .....

f) 93 ..... 84 se lee: .....

- g) 69 ..... 78 se lee: .....
- h) 85 ..... 58 se lee: .....
- i) 43 ..... 34 se lee: .....
- j) 57 ..... 57 se lee: .....

7. Escribo un número que cumpla la desigualdad:

$$38 < \square$$

$$\square > 59$$

$$\square > 30$$

$$29 < \square$$

$$93 < \square$$

$$\square > 59$$

$$\square > 30$$

$$46 < \square$$

$$\square > 84$$

$$89 < \square$$

8. Suma y coloca el símbolo  $>$ ,  $<$  ó  $=$  según corresponda:

$$76 \square 70 + 9$$

$$32 \square 30 + 9$$

$$66 \square 60 + 5$$

$$50 + 2 \square 30 + 4$$

$$80 + 3 \square 40 + 8$$

$$70 + 2 \square 20 + 4$$

$$50 + 6 \square 52$$

$$60 + 1 \square 28 + 2$$

$$30 + 5 \square 30 + 7$$

$$79 \square 70 + 4$$

9. Coloca el símbolo  $>$  ó  $<$  según corresponde:

a)  $39 \square 45 \square 62$

b)  $74 \square 58 \square 29$

c)  $81 \square 76 \square 67$

d)  $36 \square 49 \square 64$

e)  $19 \square 21 \square 42$

f)  $80 \square 70 \square 69$

g)  $90 \square 89 \square 68$

h)  $98 \square 89 \square 76$

i)  $37 \square 73 \square 81$

j)  $92 \square 76 \square 67$

k)  $39 \square 52 \square 68$

l)  $51 \square 49 \square 36$

m)  $63 \square 36 \square 29$

n)  $59 \square 62 \square 71$

10. Completa las desigualdades:

a)  $35 < \square < \square$

b)  $\square > 38 > \square$

c)  $\square > \square > 59$

d)  $78 < \square < \square$

e)  $\square > \square > 27$

f)  $\square < 50 < \square$

g)  $36 < \square < \square$

h)  $\square > \square > 65$

11. Marca la respuesta correcta:

1. Número mayores que 49 son:

a) 48,51

b) 47,46

c) 50,78

d) N.A.

2. Número que cumple con la desigualdad:  $78 < \dots\dots\dots$

a) 77

b) 35

c) 58

d) N.A.

3. Números menores que 37 son:

a) 38 y 36

b) 43 y 35

c) 12 y 14

d) N.A.

4. Es correcto:

a)  $59 > 95$

b)  $74 < 47$

c)  $35 > 16$

d) N.A.

## Hacemos Gimnasia Mental

- a) Escribe los números mayores que 39 y menores que 47.

- b) Encierra en una circunferencia los números menores que 73.

37 ; 73 ; 71 ; 82 ; 90 ; 69

- c) Escribe 5 números mayores que 20 y menores que 50.

- d) Escribe las edades de todos los miembros de tu familia en forma decreciente.

### Piensa y Resuelve:

- a) En una lata había 78 chupetes. Carlos y Arturo se comieron 23. ¿Cuántos chupetes quedan?

Datos	Operación	Respuesta

- b) Rosa tiene 19 años y Tomás 7 años. ¿Cuántos años más tiene Rosa que Tomás?

Datos	Operación	Respuesta

- c) Marisol cuida 9 pollitos. Se da cuenta que solo tiene 6 pollitos. ¿Cuántos pollitos le faltan?

Datos	Operación	Respuesta

- d) Un granjero guarda 31 ovejas en un corral. En otro corral tiene 22 ovejas. ¿Cuántas ovejas tiene si juntan los dos corrales?

Datos	Operación	Respuesta

### TAREA DOMICILIARIA

1. Escribe los símbolos  $>$ ,  $<$  ó  $=$

51 <input style="width: 30px; height: 20px;" type="text"/> 49	64 <input style="width: 30px; height: 20px;" type="text"/> 81	74 <input style="width: 30px; height: 20px;" type="text"/> 29	20 <input style="width: 30px; height: 20px;" type="text"/> 12
70 <input style="width: 30px; height: 20px;" type="text"/> 67	35 <input style="width: 30px; height: 20px;" type="text"/> 25	93 <input style="width: 30px; height: 20px;" type="text"/> 76	53 <input style="width: 30px; height: 20px;" type="text"/> 39
26 <input style="width: 30px; height: 20px;" type="text"/> 62	19 <input style="width: 30px; height: 20px;" type="text"/> 16	86 <input style="width: 30px; height: 20px;" type="text"/> 81	45 <input style="width: 30px; height: 20px;" type="text"/> 54
43 <input style="width: 30px; height: 20px;" type="text"/> 39	63 <input style="width: 30px; height: 20px;" type="text"/> 58	99 <input style="width: 30px; height: 20px;" type="text"/> 90	72 <input style="width: 30px; height: 20px;" type="text"/> 83

2. Escribe un número que cumpla la desigualdad:

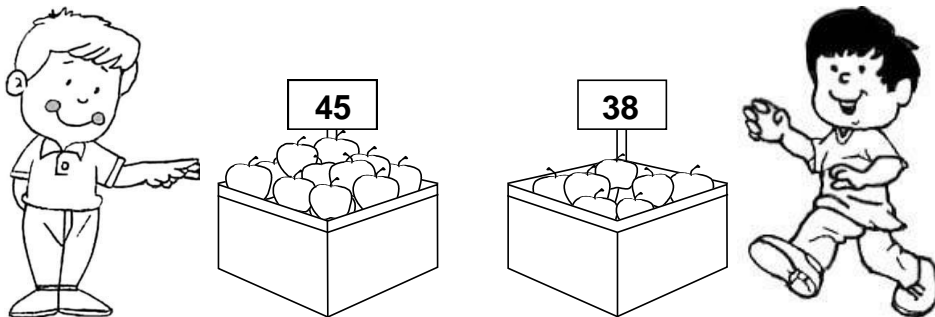
$\square > 53$ $84 > \square$ $\square > 19$ $15 < \square$	$\square < 27$ $23 < \square$ $67 = \square$ $\square > 28$	$\square > 32$ $\square < 74$ $57 < \square$ $\square = 95$
--	--	--

3. Completa:

$49 < \square < \square$ $\square < 74 < \square$ $\square > \square > 23$	$\square > 37 > \square$ $\square < \square < 86$ $62 > \square > \square$
--	--

*PRACTICO LO QUE APRENDÍ*

¿Quién tiene más manzanas? Marca la caja que corresponde:



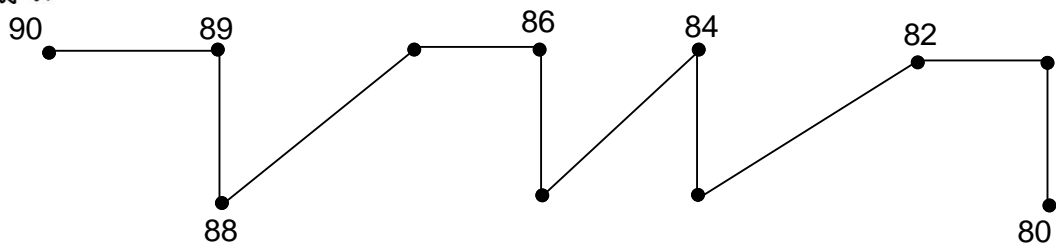
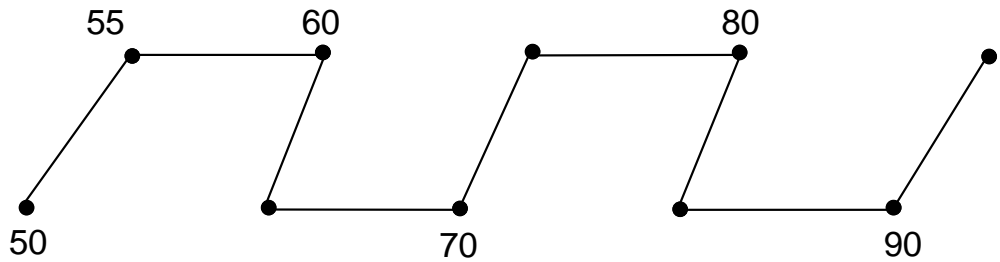
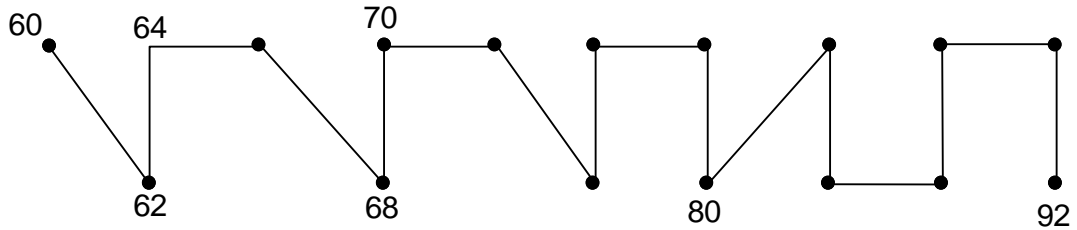
1. Ordena de menor a mayor.

71    82    60    ..... < ..... < .....  
 93    74    88    ..... < ..... < .....

2. Ordeno de mayor a menor.

43    67    52    ..... > ..... > .....  
 89    56    74    ..... > ..... > .....

3. El sapito olvidó marcar por dónde saltó. Escribe los números que faltan.



4. Encierra con un círculo los numerales mayores a los de izquierda y con azul los menores:

68	46	69	35	92	51
37	25	42	65	78	82
52	21	16	51	67	46
43	52	45	32	86	21

5. Escribe los signos  $>$ ,  $<$  ó  $=$ .

23	.....	32		36	.....	23		43	.....	44
24	.....	34		20	.....	56		71	.....	17
83	.....	78		81	.....	80		57	.....	60
99	.....	10		68	.....	86		56	.....	55

6. Ordena de mayor a menor:

23	28	20
----	----	----

59	48	60
----	----	----

68	77	36
----	----	----

.....

.....

.....

7. Ordena de menor a mayor:

43	33	14
----	----	----

71	60	12
----	----	----

57	84	25
----	----	----

.....

.....

.....