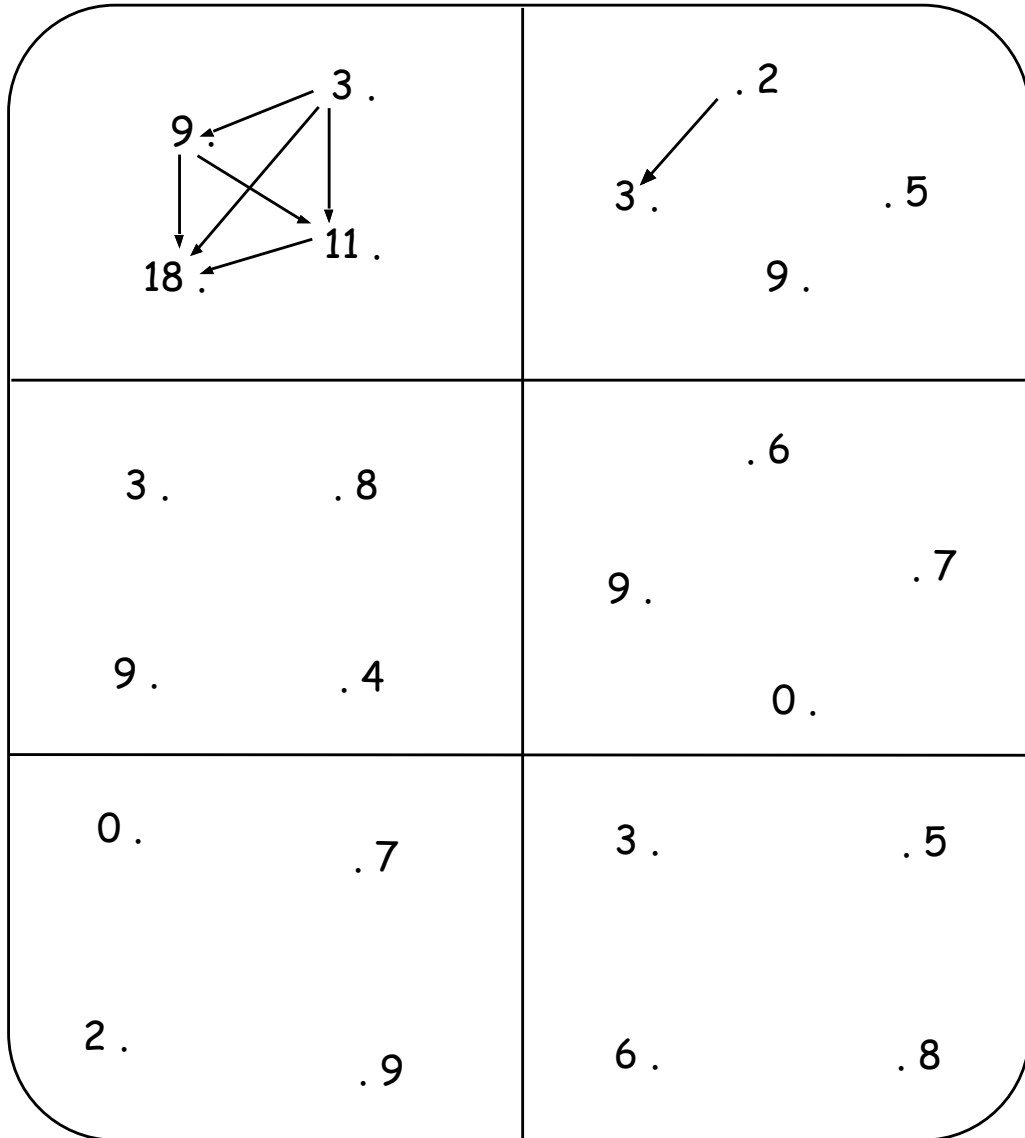
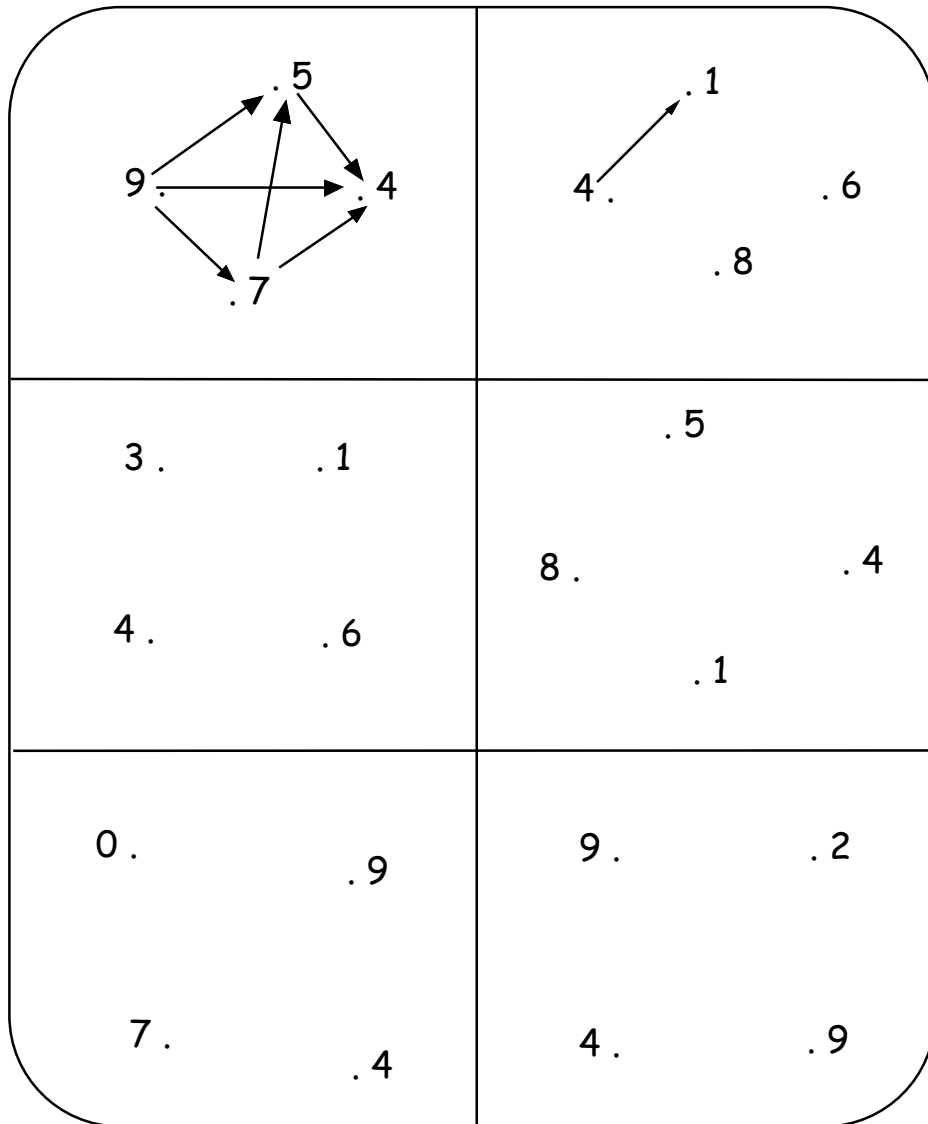


DIAGRAMAS SAGITALES

1. La flecha dice: “es menor que”. Traza todas las flechas (6 flechas en total).

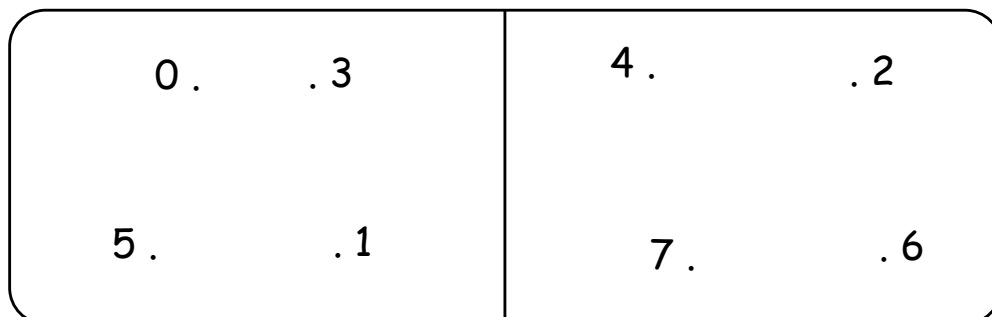


2. La flecha dice: “es mayor que”. Traza todas las flechas (6 flechas en total).



Seguimos practicando

1. Traza la flecha “es menor que”.



2. Traza la flecha “es mayor que”.

9.7 6.4	8.6 7.3
----------------	----------------

TAREA DOMICILIARIA

1. Traza la flecha: “es menor que”.

3.5 4.6	8.6 7.4
3.9 2.1	0.7 5.8

2. Traza la flecha: “es mayor que”.

<table border="1"><tbody><tr><td>4.</td><td>.9</td></tr><tr><td>5.</td><td>.7</td></tr></tbody></table>	4.	.9	5.	.7	<table border="1"><tbody><tr><td>8.</td><td>.3</td></tr><tr><td>5.</td><td>.6</td></tr></tbody></table>	8.	.3	5.	.6
4.	.9								
5.	.7								
8.	.3								
5.	.6								
<table border="1"><tbody><tr><td>9.</td><td>.1</td></tr><tr><td>4.</td><td>.7</td></tr></tbody></table>	9.	.1	4.	.7	<table border="1"><tbody><tr><td>5.</td><td>.2</td></tr><tr><td>7.</td><td>.4</td></tr></tbody></table>	5.	.2	7.	.4
9.	.1								
4.	.7								
5.	.2								
7.	.4								

Hacemos gimnasia mental:

a) ¿Cuántos números naturales hay entre 0 y 5? Escríbelos.

Respuesta:

b) Víctor escribe un número comprendido entre 6 y 8; Andrés escribe un número comprendido entre 4 y 6. ¿Quién escribió el número menor?

Respuesta: