


DOBLE Y MITAD

01. ¿Cuál es el doble de 3?

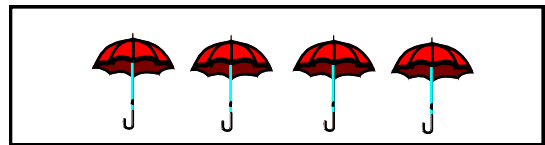
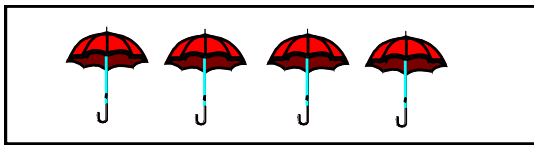


El doble de 3 es

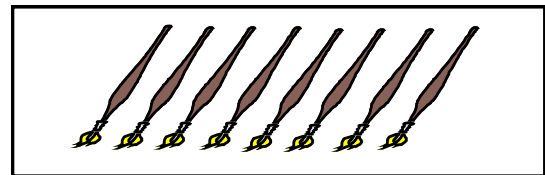
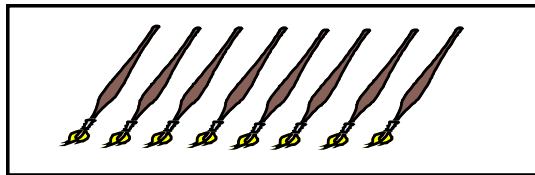
02. Calculo el doble escribe.



El doble de 5 es 10 → $5 + 5 = 10$

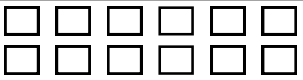


El doble de 4 es → + =










El doble de 8 es → + =



03. Dibujo y hallo el doble





	Número	Doble	
6	□ □ □ □ □ □		12
7	□ □ □ □ □ □ □		
8	□ □ □ □ □ □ □ □		
9	□ □ □ □ □ □ □ □ □		
10	□ □ □ □ □ □ □ □ □ □		

04. Calcula el doble y escríbelo.

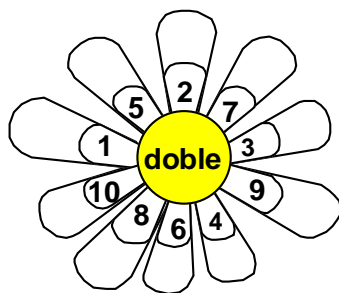
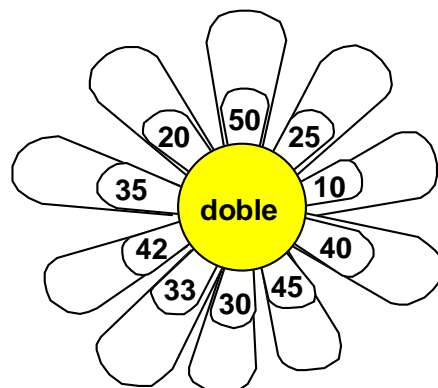





05. Piensa y completa, escribiendo el doble.

06. Marca la respuesta correcta:

01. Diana tiene 3 años y su hermana el doble de ella. ¿Cuántos años tiene su hermana?
a) 5 b) 6 c) 3 d) 4
02. Valeria tiene 12 soles y su amigo Renato el doble del él. ¿Cuántos soles tienen los dos?
a) 35 b) 33 c) 24 d) 36
03. Si el doble de un número es 22. ¿Cuál es el número?
a) 10 b) 12 c) 11 d) 13
04. Dos libretas tienen el mismo número de hojas. Las hojas de ambas libretas suman 66. ¿Cuántas hojas tienen cada una?
a) 12 b) 13 c) 14 d) 33

TAREA DOMICILIARIA

1. Completa y escribiendo el doble de los numerales:

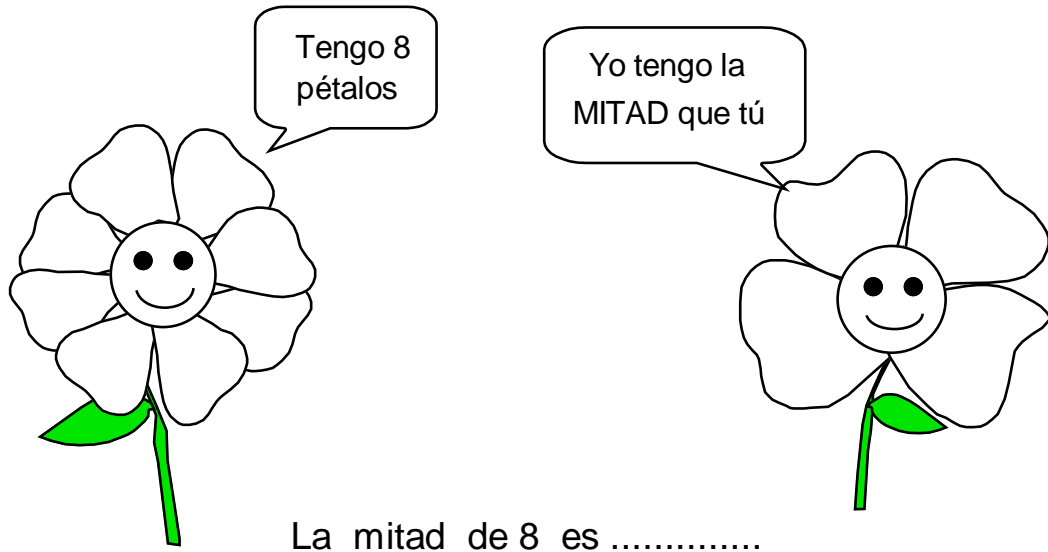
- El doble de 1 es **2**, el doble de 10 es **20**
- El doble de 3 es, el doble de 30 es
- El doble de 5 es, el doble de 50 es
- El doble de 7 es, el doble de 70 es
- El doble de 9 es, el doble de 90 es
- El doble de 2 es, el doble de 20 es

2. En los recuadros escribe el doble de los numerales:

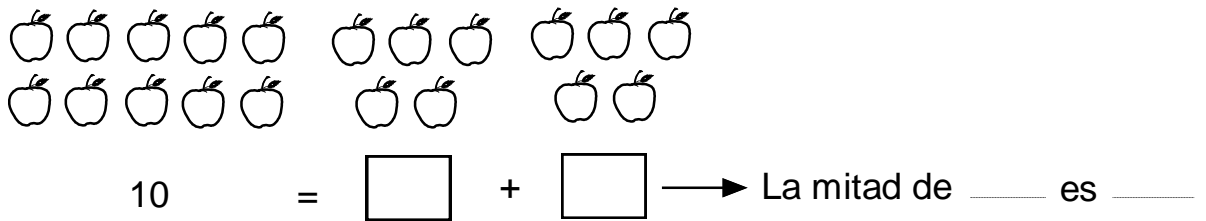
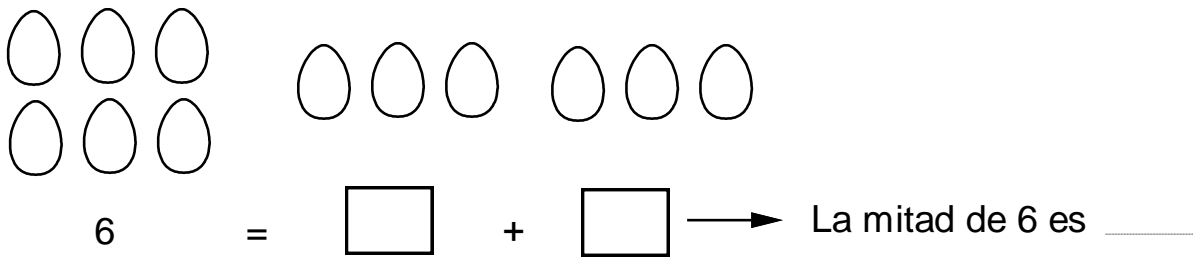
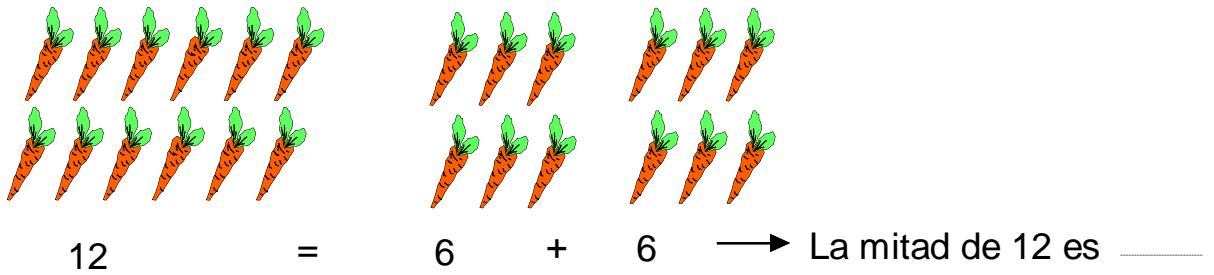
D O B L E	3	6	9	5	10	15	30	42	12

LA MITAD

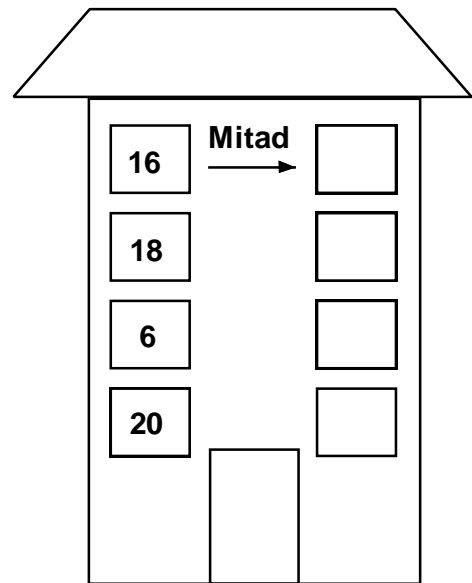
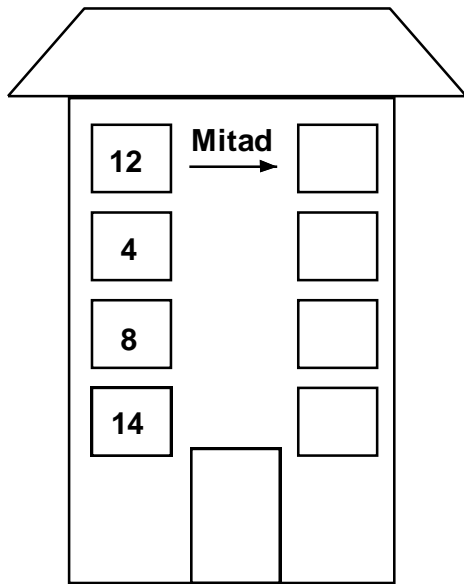
01. ¿Cuál es la mitad de 8?



02. Calculo la mitad.



03. Piensa y escribe la mitad:



04. Completa escribiendo la mitad de los numerales:

8 es la mitad de

10 es la mitad de

2 es la mitad de

6 es la mitad de

11 es la mitad de

7 es la mitad de

Mitad	Número	Doble
	2	
	4	
	6	
	8	
	10	
	12	

Mitad	Número	Doble
	20	
	30	
	46	
	28	
	10	
	40	

05. Completa escribiendo la mitad de los numerales:

La mitad de 30 es **15**.... porque **$15 + 15 = 30$**

La mitad de 10 es porque

La mitad de 50 es porque

La mitad de 70 es porque

La mitad de 90 es porque

06. Marca la respuesta correcta:

01. Diez pajaritos iban a su nido, cinco se quedaron en un árbol. ¿Cuántos siguieron su camino?
a) El doble de pajaritos b) La mitad de pajaritos c) Algunos pajaritos
02. Mi árbol tenía 18 manzanas, se cayeron de el 9. ¿Cuántas manzanas tiene ahora?
a) Algunas manzanas b) El doble de manzanas c) La mitad de anzanas
03. Tenía 4 galletas y 2 caramelos, mi tío Carlos me regaló 2 galletas y 4 caramelos más. ¿Cuántos dulces tendré ahora?
a) 6 b) 10 c) 12 d) 11
04. Compré 24 panes. Renato se comió 5 y Carmen 7 panes. ¿Cuántos panes me quedaron?
a) El doble de panes b) Algunos panes c) La mitad de panes

TAREA DOMICILIARIA

1. Resuelve completando con la mitad y doble de los numerales:

M I T A D	2	20	16	30	4	40	50	8	100

D O B L E	4	40	6	60	12	14	16	18	20

2. Completa:

La mitad de 2 es entonces la mitad de 20 es

La mitad de 4 es entonces la mitad de 40 es

La mitad de 6 es entonces la mitad de 60 es

La mitad de 8 es entonces la mitad de 80 es

3. Completa los cuadros:

Doble	Número	Mitad		Doble	Número	Mitad
	6				14	
		5				2
	30			15		
24					50	
		8				80

Haremos gimnasia mental:

A. Halla el doble del menor número natural comprendido entre 25 y 24.....

B. Halle la mitad de $(13+37)$

C. Si $A=12+15-3$; halla la mitad de A:.....

D. Si $B= 23+15-4$; halla el doble de B:.....