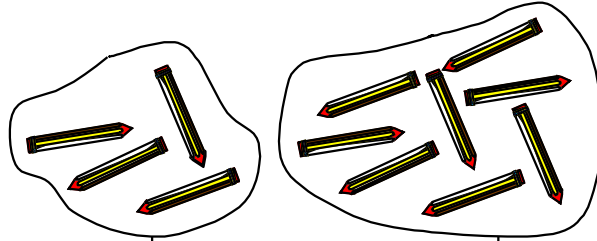


# EL DOBLE DE UN NÚMERO

Observa los gráficos:



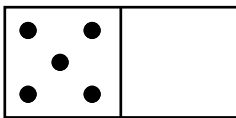
El doble de 4 es 8

El doble de 4 es 8, porque  $4 + 4 = 8$  ( $4 \times 2 = 8$ ).

Conozco...

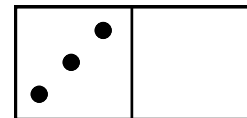
Para hallar el doble de un número, se suman dos veces dicho número o se multiplica por 2 el número dado.

1. Completa.



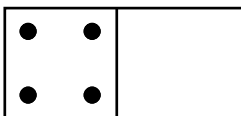
$5 + 5 = \dots\dots\dots$

El doble de 5 es.....



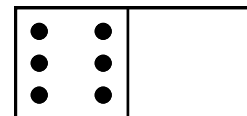
$3 + 3 = \dots\dots\dots$

El doble de 3 es.....



$4 + 4 = \dots\dots\dots$

El doble de 4 es.....



$6 + 6 = \dots\dots\dots$

El doble de 6 es.....

2. Escribe el doble de:

El doble de 9 es.....

El doble de 3 es.....

El doble de 5 es.....

El doble de 2 es.....

El doble de 7 es.....

El doble de 12 es.....

El doble de 8 es.....

El doble de 1 es.....

El doble de 6 es.....

El doble de 4 es.....

3. Halla el doble de los siguientes números.

El doble de 12 es 24 porque 2 x 12 = 24

El doble de 9 es  porque 2 x  =

El doble de 16 es  porque 2 x  =

El doble de 25 es  porque 2 x  =

El doble de 32 es  porque 2 x  =

El doble de 45 es  porque 2 x  =

El doble de 8 es  porque 2 x  =

El doble de 60 es  porque 2 x  =

El doble de 15 es  porque 2 x  =

El doble de 20 es  porque 2 x  =

El doble de 5 es  porque 2 x  =

El doble de 17 es  porque 2 x  =

El doble de 40 es  porque 2 x  =

El doble de 10 es  porque 2 x  =

4. Escribe en los recuadros el doble de los numerales:

$14 \rightarrow \square$

$7 \rightarrow \square$

$18 \rightarrow \square$

$13 \rightarrow \square$

$32 \rightarrow \square$

$24 \rightarrow \square$

$21 \rightarrow \square$

$25 \rightarrow \square$

$16 \rightarrow \square$

5. Une cada número con su doble:

$60 \bullet \quad \bullet \quad 200$

$100 \bullet \quad \bullet \quad 120$

$24 \bullet \quad \bullet \quad 60$

$13 \bullet \quad \bullet \quad 48$

$25 \bullet \quad \bullet \quad 26$

$30 \bullet \quad \bullet \quad 50$

6. Lee atentamente y completa los espacios en blanco según lo que te pidan:

- a) El doble de 9 es .....
- b) El doble de 234 es .....
- c) ..... es el doble de 23
- d) ..... es el doble de 14
- e) ..... es el doble de 19
- f) 48 es el doble de .....
- g) 20 es el doble de .....
- h) 64 es el doble de .....
- i) El doble de ..... es 12
- j) El doble de ..... es 18
- k) El doble de 3, menos 4 es .....

7. Completa la serie con el doble del último número:

2; 4; 8;.....;.....;.....;.....;.....

8. Escribe "sí" cuando encuentres el número y su doble:

18 → 36 ( )

25 → 75 ( )

14 → 24 ( )

28 → 46 ( )

100 → 200 ( )

31 → 62 ( )

9. Marca la respuesta correcta:

A. El doble de 350 es:

a) 70

b) 600

c) 700

d) 60

B. El doble de 3 decenas es:

a) 36

b) 6

c) 60

d) 9

C. El doble de 3, menos 4 es:

a) 6

b) 14

c) 7

d) 2

D. El doble de 4, más el doble de 1 es:

a) 10

b) 9

c) 8

d) 11

E. El doble de 2 centenas, menos el doble de 1 decena es:

a) 1

b) 380

c) 220

d) 100

### TAREA DOMICILIARIA:

1. Halla el doble de los siguientes números:

El doble de 16 es  porque  x  =

El doble de 8 es  porque  x  =

El doble de 45 es  porque  x  =

El doble de 17 es  porque  x  =

2. Escribe en los recuadros el doble de los numerales:

$19 \rightarrow \square$

$250 \rightarrow \square$

$200 \rightarrow \square$

$50 \rightarrow \square$

$150 \rightarrow \square$

$80 \rightarrow \square$