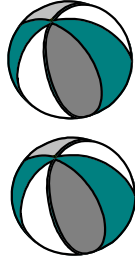







# EL MAYOR, EL MENOR E IGUAL

		
$\boxed{2}$	$>$	$\boxed{1}$



		
$\boxed{1}$	$<$	$\boxed{2}$

Se lee:



2 es mayor que 1



Se lee:

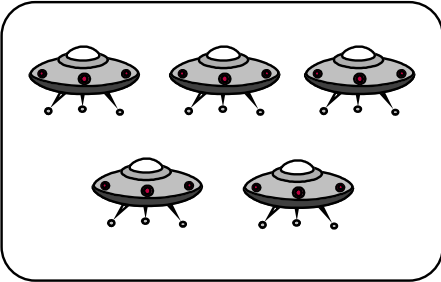
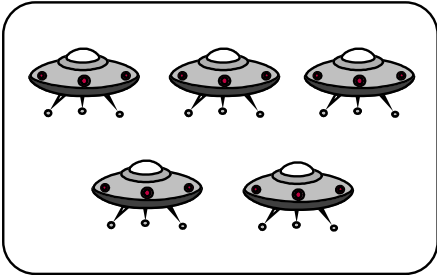
1 es menor que 2

	$=$	
Se lee: 2 es igual 2		

1. Escribe los números y los signos: >, < ó =

		
<input type="text"/>	<input type="text"/>	<input type="text"/>

		
<input type="text"/>	<input type="text"/>	<input type="text"/>

		
<input type="text"/>	<input type="text"/>	<input type="text"/>

2. Coloca el número y el signo  $>$ ,  $<$  ó  $=$ .

3. Compara cada par de números y escribe el signo  $>$ ,  $<$  ó  $=$ .

4	<input type="checkbox"/>	5	2	<input type="checkbox"/>	0
3	<input type="checkbox"/>	2	4	<input type="checkbox"/>	4
1	<input type="checkbox"/>	4	3	<input type="checkbox"/>	4
0	<input type="checkbox"/>	3	7	<input type="checkbox"/>	5

4. Escribe el numeral correspondiente para que la relación sea correcta.

3 $>$ <input type="text"/>	6 = <input type="text"/>	4 $>$ <input type="text"/>
<input type="text"/> $<$ 3	8 $>$ <input type="text"/>	7 $<$ <input type="text"/>
2 $<$ <input type="text"/>	7 = <input type="text"/>	1 $<$ <input type="text"/>

5. Marca la respuesta correcta:

A. Es correcto:

a)  $8 < 5$

b)  $5 < 1$

c)  $8 > 9$

B. Es incorrecto:

a)  $4 = 4$

b)  $2 < 6$

c)  $7 < 5$

C. ¿Cuál número corresponde es:  $8 > \dots\dots\dots$ ?

a) 9

b) 8

c) 7

D. Lee y marca: "ocho menos que 9"

a)  $8 > 9$

b)  $8 < 9$

c)  $9 < 8$

TAREA DOMICILIARIA

1. Escribe  $>$ ,  $<$  ó  $=$  según corresponda:

$7 \square 6$	$9 \square 5$	$1 \square 3$
$9 \square 8$	$8 \square 8$	$7 \square 9$
$6 \square 9$	$6 \square 5$	$8 \square 4$

2. Coloca el número correspondiente para que la relación sea correcta:

$7 > \square$	$0 < \square$	$\square = 7$
$5 < \square$	$\square < 9$	$1 > \square$
$8 > \square$	$3 = \square$	$6 < \square$

3. Escriba el signo que corresponde  $>$ ,  $<$  ó  $=$

5	<input type="text"/>	1	4	<input type="text"/>	5
2	<input type="text"/>	2	5	<input type="text"/>	4
7	<input type="text"/>	5	6	<input type="text"/>	4
8	<input type="text"/>	9	7	<input type="text"/>	9

**Hacemos gimnasia mental:**

a) Escribe 3 números mayores que 3:

.....

b) Escribe 2 números mayores que 4 y menores que 9:

.....

c) ¿Cuáles son los números mayores que 5 pero menores que 8?

.....

d) Alfredo escribe un número comprendido entre 7 y 9; Juan escribe un número comprendido entre 5 y 7. ¿Quién escribió el número menor?

Respuesta:

.....