

2. Completa el cuadro:

Decimal	Se lee:
7,5	
28,06	
38,6	
7,004	
0,013	
	Once centésimos
	Cuatro enteros nueve milésimos
	Trece enteros dos centésimos
	Un décimo
	Un milésimo
0,01	

3. Escribe como se lee:

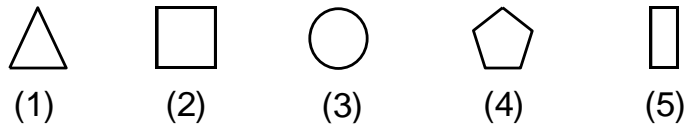
- 0,04
- 0,01
- 0,34
- 0,4
- 0,25
- 2,13
- 5,12
- 0,09
- 5,001
- 124,07
- 3,04
- 18,005

Dictado de decimales:

- | | |
|---------|----------|
| 1. | 6. |
| 2. | 7. |
| 3. | 8. |
| 4. | 9. |
| 5. | 10. |

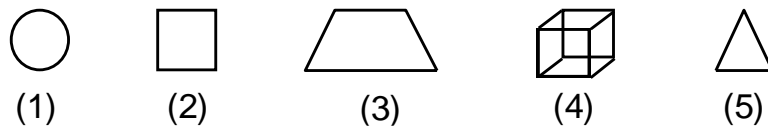
ejercicios propuestos

01. ¿Cuál es la figura que no tiene relación con los demás?



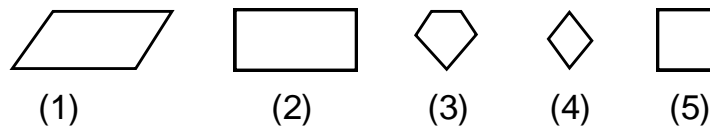
- a) 2 b) 1 c) 3 d) 4 y 5

02. ¿Cuál es la figura que no tiene relación con las demás?



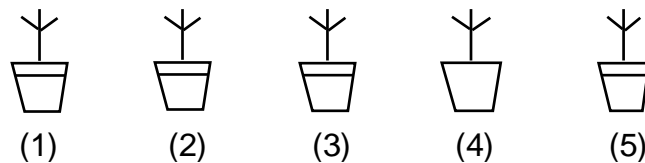
- a) 1 b) 2 c) 3 y 5 d) 4

03. ¿Cuál es la figura que no tiene relación con los demás?



- a) 3 b) 4 c) 1 d) 2 y 5

04. ¿Cuál es la figura que no tiene relación con los demás?



- a) 1 y 2 b) 4 c) 3 d) 5

TAREA DOMICILIARIA

1. Escribe como se leen:

- 0,02
- 0,002
- 0,2
- 5,3
- 5,03
- 5,003
- 8,9
- 8,09
- 8,009
- 13,5
- 15,05
- 13,005

2. Escribe los decimales:

- Trece centésimos
- Catorce enteros ocho décimos
- Doce enteros doce milésimos
- Tres milésimos
- Tres décimos
- Tres centésimos

3. Efectúa:

$$852 : 4$$

$$378 : 5$$

$$972 : 9$$

$$568 \times 32$$

$$965 \times 78$$

$$321 \times 45$$