

FORMAS DE COMUNICACION

COMUNICACIONES DEL AYER

El territorio del Imperio Incaico llegó a desarrollarse y crecer debido a que mantuvo una fácil y rápida comunicación entre sus diferentes regiones.

Para esto, los Incas construyeron caminos y puentes que unían los pueblos andinos con los de la Costa.

Los puentes sobre los abismos eran colgantes y sobre los ríos angostos eran de piedra o madera.



Todo estaba previsto en el Imperio Incaico, por ello se construyeron tambos, donde se almacenaban víveres y ropa para los viajeros.

Los incas comunicaron lugares muy alejados. Por el norte llegaron hasta Pasto, en Colombia; por el sur, hasta Salta y Mendoza, en Argentina y hasta el centro de Chile.

De este modo el Inca se mantenía informado de todo lo que pasaba en su amplio territorio.

Hoy en día, el afán de progreso del hombre ha hecho que las comunicaciones sean cada vez más rápidas y modernas.

1. ¿Cómo se comunicaban en el antiguo Perú?
 2. ¿Cómo nos comunicamos ahora?
- **Observa** las siguientes ilustraciones:






Como habrás observado, estas personas se informan del mismo acontecimiento por distintos medios como la radio, la televisión, los periódicos y el teléfono.

Hoy en día, las noticias pueden llegar tan rápido que a veces nos enteramos de las cosas que pasan en el mismo momento que ocurren.

• **Averigua** los siguientes datos:

- Los nombres de dos periódicos:,
- Los nombres de dos canales de televisión:
..... y
- El nombre de una emisora radial:
- Los nombres de otros medios de comunicación:
..... y

• **Observa** con atención estos medios de transporte:



• **Completa** los siguientes datos:


Escribe los nombres de los medios de transporte que ves en las ilustraciones.

.....
.....

¿Para qué usamos los medios de transporte?

.....
.....

- **Observa** estas ilustraciones y **completa** las ideas:



Los medios de transporte pueden ser

y

Los medios de transporte acuáticos salen y llegan a un puerto.

Los medios de transporte aéreo salen y llegan a un terminal aéreo o aeropuerto.

Los medios de transporte terrestre salen y llegan a un terminal terrestre o terrapuerto.

- **Contesta** qué medio de transporte utilizarías para:

¿Viajar de Lima a Huancayo?

¿Enviar computadoras de Nueva York al Callao?



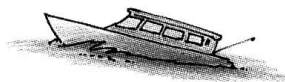
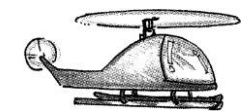
¿Enviar madera de Iquitos a Pucallpa?


¿Irte de vacaciones a Europa?

¿Visitar a un amigo que vive a dos cuadras?

¿Ir a la luna?

- ¿Por dónde se movilizan estos vehículos? **Únelos** con el lugar por donde se desplazan.





*El lugar por donde se desplaza un vehículo es una **vía**. Los vehículos se desplazan por diferentes vías: terrestres, aérea, acuática.*

- **Completa** estos datos:

Cuando nos referimos a vías acuáticas, puede tratarse de
(vías marítimas), de (vías fluviales) o de
..... (vías lacustres).

En cuanto a vías podemos utilizar calles, avenidas y
carreteras. No olvidamos a las vías férreas, por donde circulan los
.....

La vía más rápida es la aérea, por allí se desplazan los

Algunos países han creado naves espaciales que traspasan los cielos a velocidades increíbles.

- **Une** las palabras de los recuadros con la vía a la que pertenezcan:

Panamericana Sur – Río Amazonas – Lago Titicaca – Ferrocarril Central – Río Rímac

Vías terrestres Vías férreas Vías marítimas Vías fluviales Vías lacustres

Ferrocarril del Sur – Av. España – Mar Mediterráneo – Océano Pacífico

Práctica de clase

1. **Subraya** la respuesta correcta:

En un día de vacaciones, si puedo viajar en



me gustaría conocer...

Al recorrer una  con destino a Piura,

podré utilizar...

Para que un , pueda enviar su señal

utilizará cualquier...

En caso de un  será necesario

comunicarnos con los familiares a través de...

2. **Encierra** en el pupiletras los nueve nombres de los diferentes medios de transporte:

B	I	C	I	C	L	E	T	A	A	C	A	T	C
A	R	M	C	L	R	R	D	M	U	O	V	Q	O
R	Z	I	C	D	Z	R	E	I	T	T	I	E	H
C	Y	C	A	N	O	A	O	Z	O	S	O	R	E
O	A	T	O	Z	A	C	V	N	B	Y	N	T	T
Z	T	O	H	B	V	A	I	Z	I	R	T	R	E
B	E	H	E	L	I	C	O	P	T	E	R	O	H
R	T	U	T	R	E	N	N	A	U	I	L	N	T

- Ahora **cópialos** clasificándolos en el cuadro:

Acuáticos	Terrestres	Aéreos

3. **Observa** esta ilustración y **coméntala**.



¿A través de qué medios de comunicación se llegará a conocer este acontecimiento en todo el Perú?

.....

Si fueras periodista, ¿qué título le pondrías a la noticia?

.....

Si tuvieras que decirlo por la televisión, ¿cómo lo informarías?

.....

Esta persona vive en un caserío de Piura y no tiene radio, ni televisión, ni teléfono. ¿Cómo crees tú que le puede llegar la noticia?

.....



Si este hecho se hubiera dado en la época incaica, ¿cómo se transmitiría la noticia?

.....
.....

¿Sabías que...?



El lago navegable más alto del mundo es el Titicaca. Está ubicado a 3 812 metros sobre el nivel del mar.

La bicicleta se usa desde fines del siglo XIX, y ha alcanzado su mayor uso desde 1955, especialmente en países asiáticos como China.



El 4 de Octubre de 1957 la Unión soviética lanzó la nave espacial SPUTNIK II con el primer ser viviente a bordo: una perrita llamada Laika. Y el primer ser humano en viajar al espacio fue el cosmonauta soviético Yuri Gagarin a bordo de la nave Vostok I.

A través de la telemedicina un paciente puede ser observado y diagnosticado por médicos que se encuentran a varios cientos de kilómetros. Esta comunicación visual y oral entre médicos y pacientes se logra a través de la televisión y las computadoras.



La publicidad se ha convertido en un arma poderosa de convencimiento de los que producen algo nuevo.

Cuando alguien quiere lanzar un nuevo producto al mercado, usa todos los medios de comunicación para convencernos de que es el

mejor.