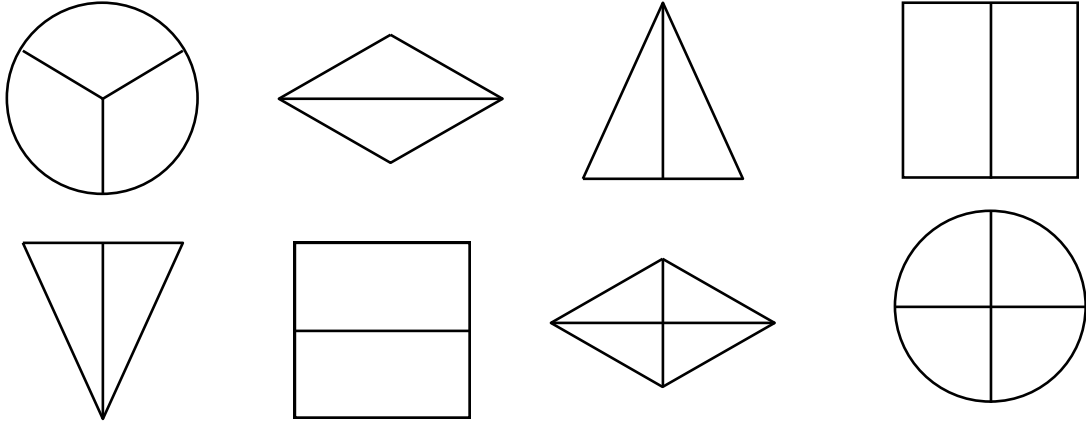
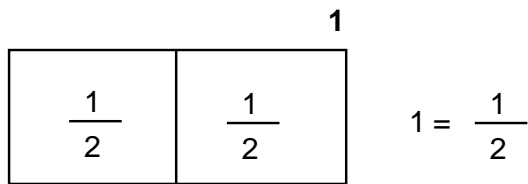


IDEA DE FRACCIÓN

Partes iguales: Observa y pinta el número de partes en que está dividida la figura.



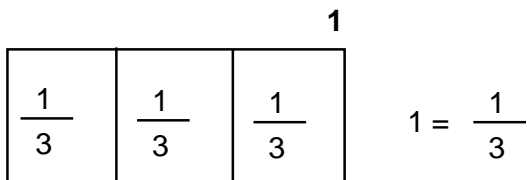
Observa:



* La unidad ha sido dividida en dos partes iguales. Cada parte representa a la mitad o un medio $\frac{1}{2}$

* La unidad es igual a dos medios

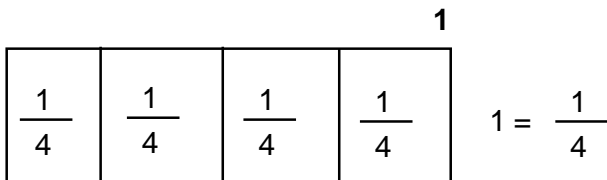
Ahora a la unidad lo dividimos en tres partes iguales:



* Cada parte representa a un tercio

* La unidad es igual a "tres tercios"

Ahora la unidad ha sido dividida en cuatro partes iguales:



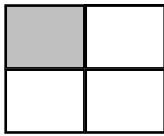
* Cada parte representa a un cuarto

* La unidad es igual a "cuatro cuartos"

Fracción:

Se llama fracción a la división o participación de la unidad en partes iguales.

Términos:



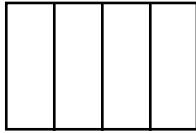
$$\frac{1}{4}$$

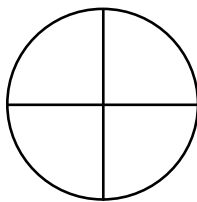
→ Numerador: Parte que se ha coloreado.

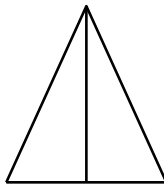
→ Denominador: Parte en que se ha dividido la figura.

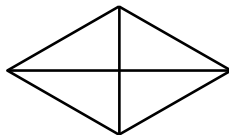
Se lee: Un cuarto

1. Jugamos escribe en cuántas partes está dividida la unidad. Pinta las figuras.






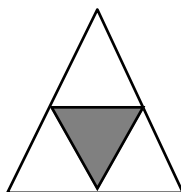




2. Observa las figuras y completa:



- La figura está dividida
..... partes iguales. Hay
pintada de un total
de partes.

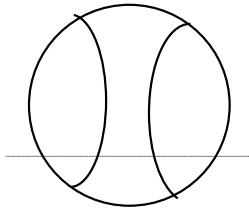


- La figura está dividida en
..... partes.
Hay pintada de un total
de partes.

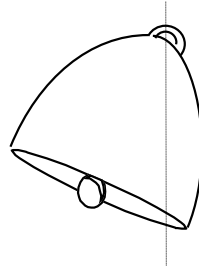


- La figura está dividida en partes. Hay pintada de un total de partes.


3. Encierra en un círculo la palabra **SI** o **NO**, según la figura este dividida por la mitad.



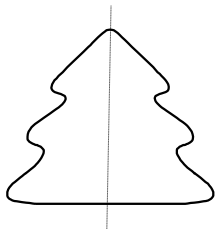
SI NO



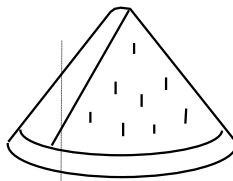
SI NO




SI NO



SI NO



SI NO



SI NO