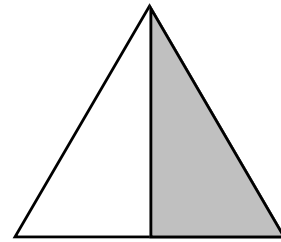
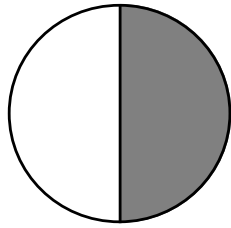
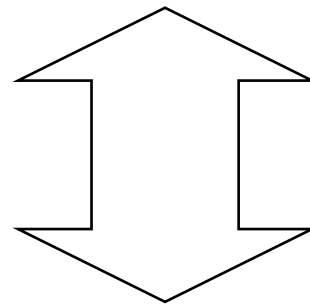
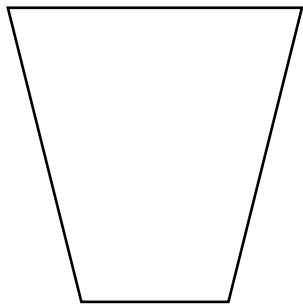

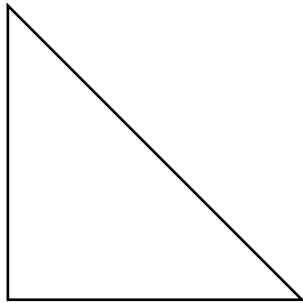



LA MITAD



- Traza las mitades de las siguientes figuras y píntalos:



Conozco...



Cada parte es una mitad y se representa así:

$$\frac{1}{2} \quad \text{ó} \quad \frac{1}{2}$$

Se lee: Un medio.

Práctica de clase

1. Pinta la mitad de elementos de cada conjunto y luego completa:



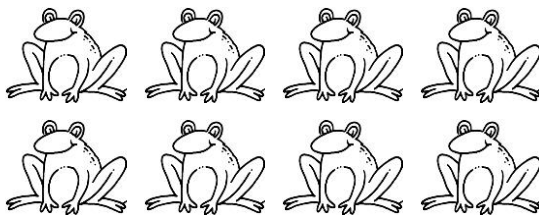
La mitad de es

..... es la mitad de




La mitad de es

..... es la mitad de



La mitad de es

..... es la mitad de



La mitad de es

..... es la mitad de



La mitad de es

..... es la mitad de

2. Une con una línea el número con su mitad:

12 •

24 •

42 •

14 •

8 •

10 •

18 •

• 4

• 9

• 12

• 21

• 6

• 7

• 5

3. Completa:

- a) La mitad de 12 es.....
- b)es la mitad de 14.
- c)es la mitad de 8.
- d) La mitad de.....es 3.
- e) La mitad de 16 es.....
- f)es la mitad de 40.

4. Resuelve y escribe el resultado:

- a) La mitad de 10, más 3 es.....
- b) La mitad de 4, más el doble de 2 es.....
- c) La mitad de 18 manzanas es.....manzanas.
- d) La mitad de 20 menos 4 es.....
- e) La mitad de $6 + 4$ es.....
- f) El doble de 6, menos la mitad de 8.....
- g) La mitad de 3 decenas es.....

5. Completa las sucesiones.

32 la mitad la mitad la mitad la mitad

6. Marca la respuesta correcta:

A. La mitad de 24, menos 8 es:

- a) 4 b) 12 c) 16 d) 32

B. Olenka tiene 30 años y Rebeca la mitad. ¿Cuántos años tiene Rebeca?

- a) 30 b) 10 c) 45 d) 15

C. La mitad de una centena es:

- a) 10 b) 5 c) 50 d) 100

D. La mitad de 5 decenas es:

- a) 2 b) 100 c) 25 d) 50

E. La mitad de 30 más el doble de 8 es:

- a) 22 b) 31 c) 38 d) 23

TAREA DOMICILIARIA

1. Completa el cuadro:

| MITAD | NÚMERO | DOBLE |
|-------|--------|-------|
| | 12 | |
| | 40 | |
| | 28 | |
| | 18 | |
| | 8 | |
| | 22 | |