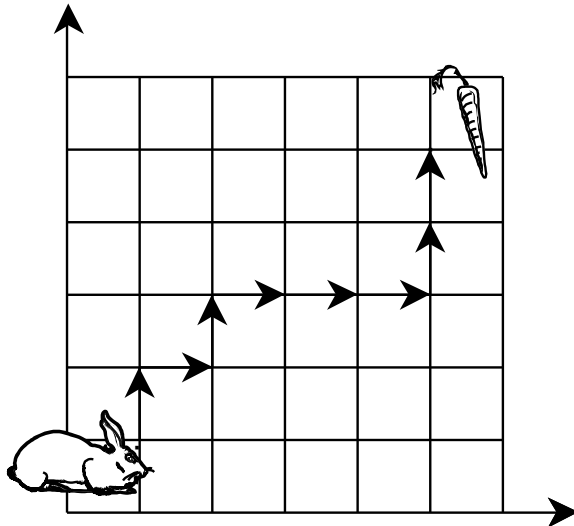
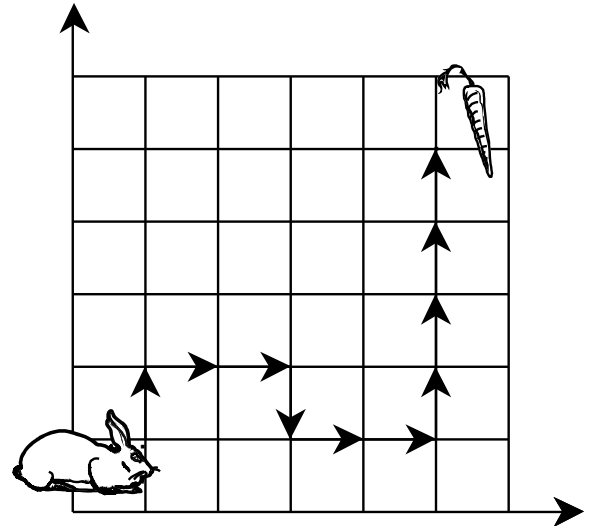


LOS DESPLAZAMIENTOS

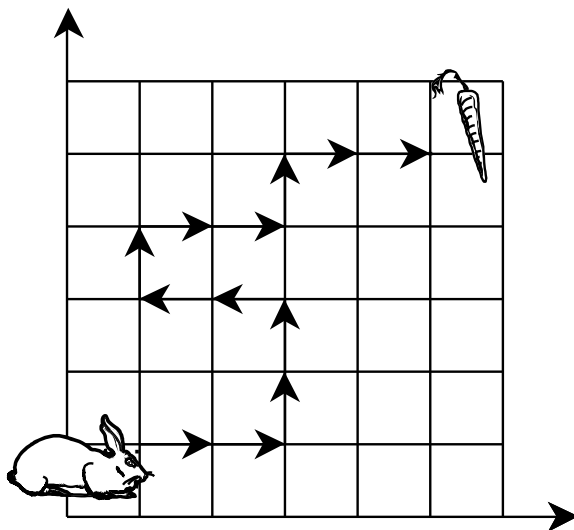
Observa el gráfico y representa con flechas los caminos o recorridos del conejo en busca de la zanahoria.



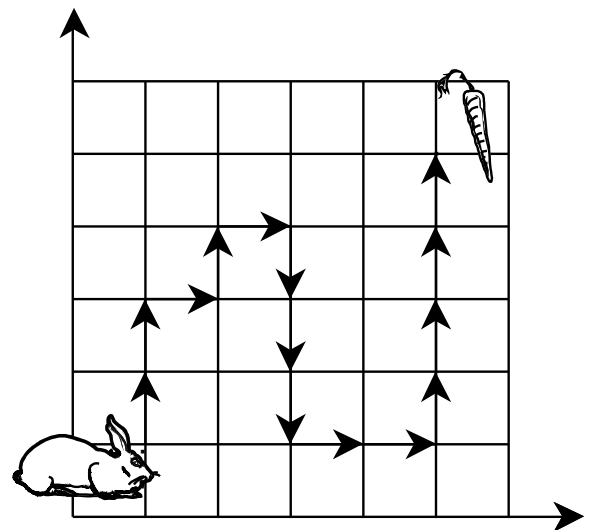
Primer camino: ↑ → ↑ → ↑ → ↑ → ↑



Segundo camino: _____



Tercer camino: _____



Cuarto camino: _____

Responde:

¿Cuántas cuadras caminó el conejo para coger la zanahoria?

Primer camino: cuadras

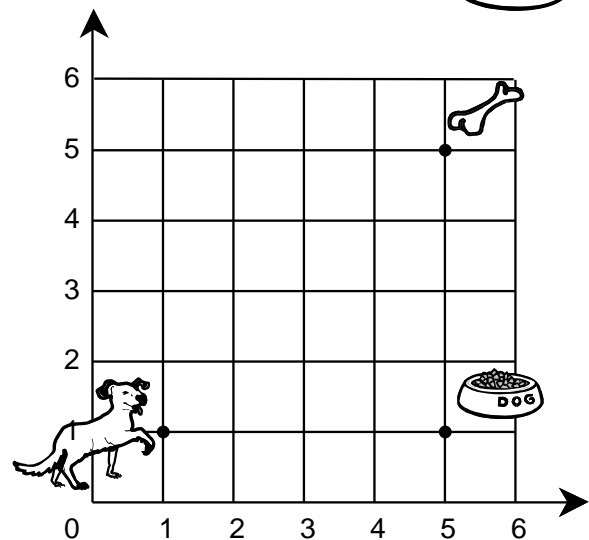
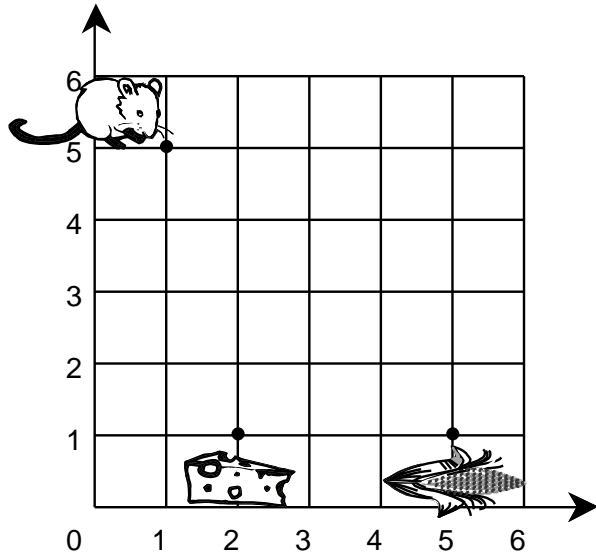

Segundo camino: cuadras

Tercer camino: cuadras

Cuarto camino: cuadras

Práctica de clase

1. Traza con colores diferentes los caminos que siguen los animales en el cuadrilado, según indican las flechas.



2. En el plano cuadrilado sigue los siguientes caminos. No olvides empezar del punto.

- a) $3 \rightarrow 2 \uparrow 1 \leftarrow 2 \uparrow 3 \rightarrow 1 \downarrow 2 \rightarrow$
- b) $1 \downarrow 2 \rightarrow 3 \uparrow 2 \rightarrow 1 \uparrow 4 \rightarrow 1 \downarrow$

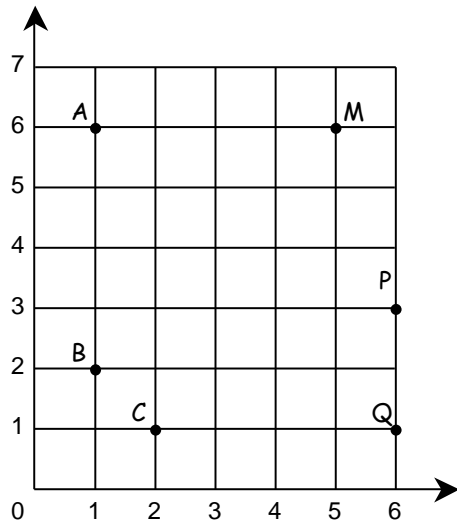
TAREA DOMICILIARIA

- Sigue los caminos en el plano cuadrículado. Usa colores diferentes

A. ↓↓↓↓→↑↑↑→↓↓↓→P .

B. →→→↓→↑→↓ Q .

C. ↑↑↑↑→↑↑→ M .



C. →→↓↓→↑→↓ R .

D. ↓↓→→↓→↑ S .

E. →↑↑↑↑→↑→↑ T .

