

NUESTRAS MONEDAS Y BILLETES

Por Ley N° 25295 se establece en el Perú un nuevo sistema monetario cuyo símbolo es S/. , llamado **NUEVO SOL**.

Las monedas pueden ser metálicas o de papel.

Estas son las monedas metálicas:



DIEZ CÉNTIMOS
De metal amarillo.
10 monedas de 10
céntimos hacen
UN NUEVO SOL



VEINTE CÉNTIMOS
De metal amarillo.
5 monedas de 20
céntimos hacen
UN NUEVO SOL



50 CÉNTIMOS
De metal blanco.
2 monedas de 50
céntimos hacen
UN NUEVO SOL



UN NUEVO SOL
De metal blanco.
En UN NUEVO SOL hay
100 céntimos.



2 NUEVOS SOLES



5 NUEVOS SOLES

MONEDAS DE PAPEL DEL PERÚ



Billete de DIEZ NUEVOS SOLES, de color verde, con la efigie del Cap. FAP José Abelardo Quiñones, héroe de nuestra aviación militar.

Billete de VEINTE NUEVOS SOLES, de color amarillo, con la efigie de don Raúl Porras Barrenechea, hombre polifacético que ocupó muchos cargos públicos.



Billete de CINCUENTA NUEVOS SOLES, de color naranja, con la efigie del poeta y escritor don Abraham Valdelomar, quien nos legó riquísimas producciones literarias.

Billete de CIEN NUEVOS SOLES, de color celeste, con la efigie del Dr. Jorge Basadre, acucioso investigador de nuestro pasado histórico.



Reverso de las monedas de papel del Perú



En el billete de DIEZ NUEVOS SOLES se representa el avión que piloteara el héroe Cap. FAP José Abelardo Quiñones.

10

En el billete de VEINTE NUEVOS SOLES se representa el Palacio de Torre Tagle de Lima, sede de la Cancillería del Perú.



20



En el billete de CINCUENTA NUEVOS SOLES se representa la laguna de Huacachina, lugar de recreo en la costa del departamento de Ica.

50


En el billete de CIEN NUEVOS SOLES se representa el edificio de la Biblioteca Nacional, foco de la cultura peruana.



100

Práctica de clase


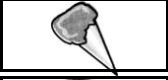
01. Rodea el dinero que se indica.



02. Dibuja monedas y billetes que representen las siguientes cantidades.

8 Soles	
7 soles 50 céntimos	
19 Soles 50 céntimos	

03. Observa el cuadro y completa:

Artículo	Precio por unidad	Precio por 2 artículos	Precio por 3 artículos	Precio por 4 artículos	Precio por 5 artículos
	30 centímetro				
	10 centímetro				
	50 centímetro				
	3 soles				
	2 soles				

04. Con los datos del cuadro anterior, completa:

2 helados → _____ 4 cajitas de chicle → _____ 5 caramelos → _____ Importe total → _____ Pago con → <u>10 soles</u> Mi vuelto → _____	5 cajitas de fósforo → _____ 3 jugos → _____ 1 helado → _____ Importe total → _____ Pago con → <u>15 soles</u> Mi vuelto → _____
4 caramelos → _____ 3 cajitas de chicle → _____ 5 jugos → _____ Importe total → _____ Pago con → <u>12 soles</u> Mi vuelto → _____	4 cajitas de fósforo → _____ 3 cajitas de chicle → _____ 5 helados → _____ Importe total → _____ Pago con → <u>20 soles</u> Mi vuelto → _____

05. Problemas:

- a) Nicolle compra medicinas por un valor de 82 nuevos soles y paga con un billete de 100 nuevos soles. ¿Cuánto recibe de vuelto?

Solución

Respuesta

Recibesoles.

- b) Si 8 cajas de leche evaporada cuestan 520 nuevos soles y paga con tres billetes de 200 nuevos soles. ¿Cuánto le queda?

Solución

Respuesta

Le quedasoles.

- c) Los padres de familia del colegio han mandado confeccionar 32 carpetas. Si cada una cuesta S/. 54,00. ¿Cuánto pagarán por todas?

Solución

Respuesta

Pagaronsoles.

- d) Un par de zapatillas cuesta S/. 18,00. Si se paga con un billete de S/. 50,00. ¿Cuánto le queda de vuelto?

Solución

Respuesta

Le queda de vuelto.....soles.

Razonamos:

- 01.** Lee con atención lo que sigue y responde a las preguntas:

En Año Nuevo tu papá te dio S/. 10,00, tu padrino S/.5,00 y tu tío S/. 2,00. ¿Cuánto dinero has reunido?

- a) S/. 19,00 b) S/. 17,00 c) S/.15,00

En la tienda de juguetes compra una pelota en S/. 14,00. ¿Cuánto dinero queda?

- a) S/. 2,00 b) S/. 4,00 c) S/.3,00

Con lo que te queda podrás compra un trompo que cuesta S/. 4,00 soles?

Si

No

01. Encierra en una curva tu respuesta.

¿Qué es más caro? el televisor, la cocina o el equipo de sonido

¿Qué es más barato? la cama, el pupitre o el sofá

¿Qué es más caro? la bicicleta la silla o la lámpara

¿Qué es más barato? el pupitre el sofá o la casaca

02. Resuelve:

A) Laura compró una camisa en 114 soles. Entregar 3 billetes de S/. 50,00.
¿Cuánto recibió de vuelto?

Solución

Respuesta

Recibió de vuelto.....soles.

B) Carlos tenía 642 soles. Compró un vestido en 315 soles, un libro en 86 soles. ¿Cuántos soles le quedan?

Solución

Respuesta

Le quedansoles.

C) Un avión cuesta S/. 525,00. Hiroshi tiene S/. 398,00. ¿Cuántos soles le faltan para comprar el avión?

Solución

Respuesta

A Fernando le faltan.....soles.