

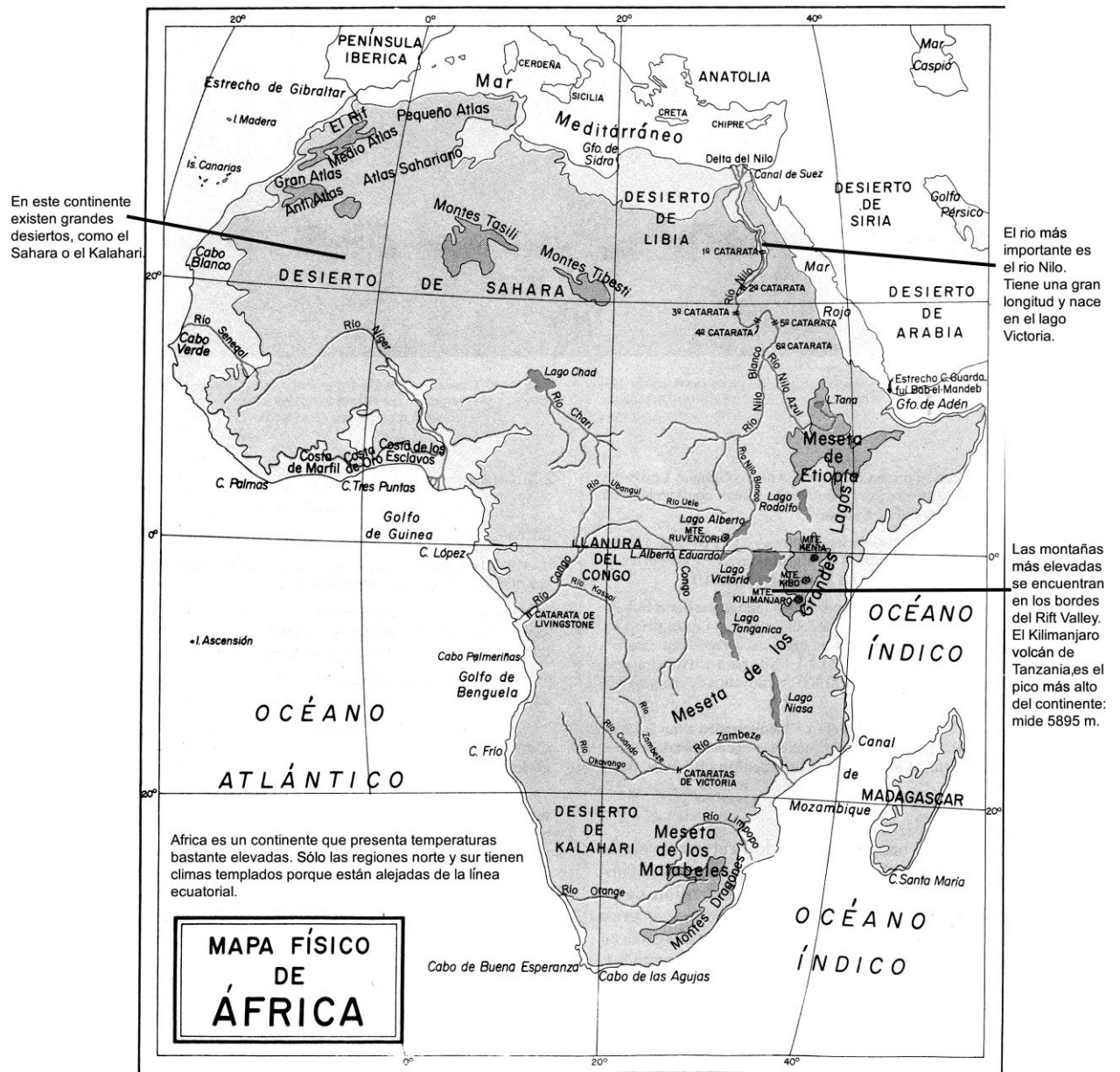
NUESTROS CONTINENTES

Si observamos una fotografía de nuestro planeta tomada desde el espacio, podremos apreciar que grandes porciones de su superficie (las tres cuartas partes) están cubiertas por las aguas de océanos y mares. El resto está ocupado por los continentes, grandes masas de tierra que sobresalen del nivel del mar. Los continentes ocupan aproximadamente el veinticinco por ciento de la superficie de la Tierra. A continuación, estudiaremos cada uno de ellos.



África, el continente más cálido


Superficie: África tiene una superficie de más de 30 millones de kilómetros cuadrados, que representa una quinta parte de la superficie de todos los continentes juntos. Está separado de Europa por los 13 km. del estrecho de Gibraltar y de Asia por el canal de Suez.



El continente africano es el más antiguo de nuestro planeta y posiblemente, “La cuna de la humanidad” según los estudios y hallazgos de restos fósiles.

- **Ubicación:** África es el continente que comparte los cuatro hemisferios del planeta; norte y sur, por estar atravesado por la línea ecuatorial; este y oeste por ubicarse a ambos lados del meridiano de Greenwich.
- **Límites:**
 - Norte : Mar Mediterráneo
 - Sur : Océano Atlántico
 - Este : Océano Índico
 - Oeste : Océano Atlántico
- **Clima:** En general el clima de África es muy cálido, se pueden observar 8 regiones: desértica, semiártica, tropical o sabana, ecuatorial, oceánica, tierras templadas altas, montañosas y la región de los lagos del este de África.
- **División Política:** Hasta el año 1945 en África existían solamente cuatro países o naciones independizadas, la gran mayoría del territorio formaba parte de diferentes colonias. Ahora el continente cuenta con 53 naciones independientes.

Dentro de este continente encontramos al país de Egipto, que es una de la más antiguas civilizaciones de la tierra donde de han construido las famosas "Pirámides de Egipto".



Las Pirámides de Egipto

Práctica de clase

1. Observa el mapa y encierra con una línea el canal de Suez y el cabo de Buena Esperanza.

2. Menciona el nombre de 4 ríos de África.

.....

.....

3. Observa el mapa de África y responde:

Cómo se llaman los océanos que rodean al continente.

.....


.....

4. Copia y completa el cuadro sobre los paisajes africanos.

	Clima	Flora	Fauna
desierto			
sabana			
selva			

5. ¿Qué animales son típicos del continente Africano?

Pega imágenes de ellos.



6. Según las investigaciones antropológicas dónde se originó la especie humana?

.....

.....