



REGIONES NATURALES DEL PERÚ

Mi patria

(adaptación)

Mi patria es muy grande
y de belleza sin par,
la forman la Selva y el Ande,
la Costa y el Mar.

Larga faja es la Costa,
valles, rocas, arenales;
ciudades y haciendas...
angosta tierra
bañada por el mar.

La Sierra es una tierra
de valles y montañas
con grandes pastizales,
oro y plata en sus montañas
y en sus frías alturas
hermosos y verdes quinales.

Responde:

1. ¿Qué regiones forman parte del Perú?
.....
2. ¿Qué diferencias hay entre la costa y la sierra?
.....
.....
3. ¿Por qué crees que la selva es importante para la humanidad?
.....
.....
4. Averigua quién fue Javier Pulgar Vidal.
.....

Nuestro país, Perú, estuvo dividido en **3 grandes regiones naturales: Costa, Sierra y Selva**, por su variedad de suelos, clima, flora y fauna. Esta división está determinada por la presencia de la Cordillera de los Andes. Años más tarde se incluyó al **Mar territorial** como la **cuarta región natural**. Para su mejor organización y gobierno, Perú está formado por 24 departamentos, como podrás observar en el mapa.

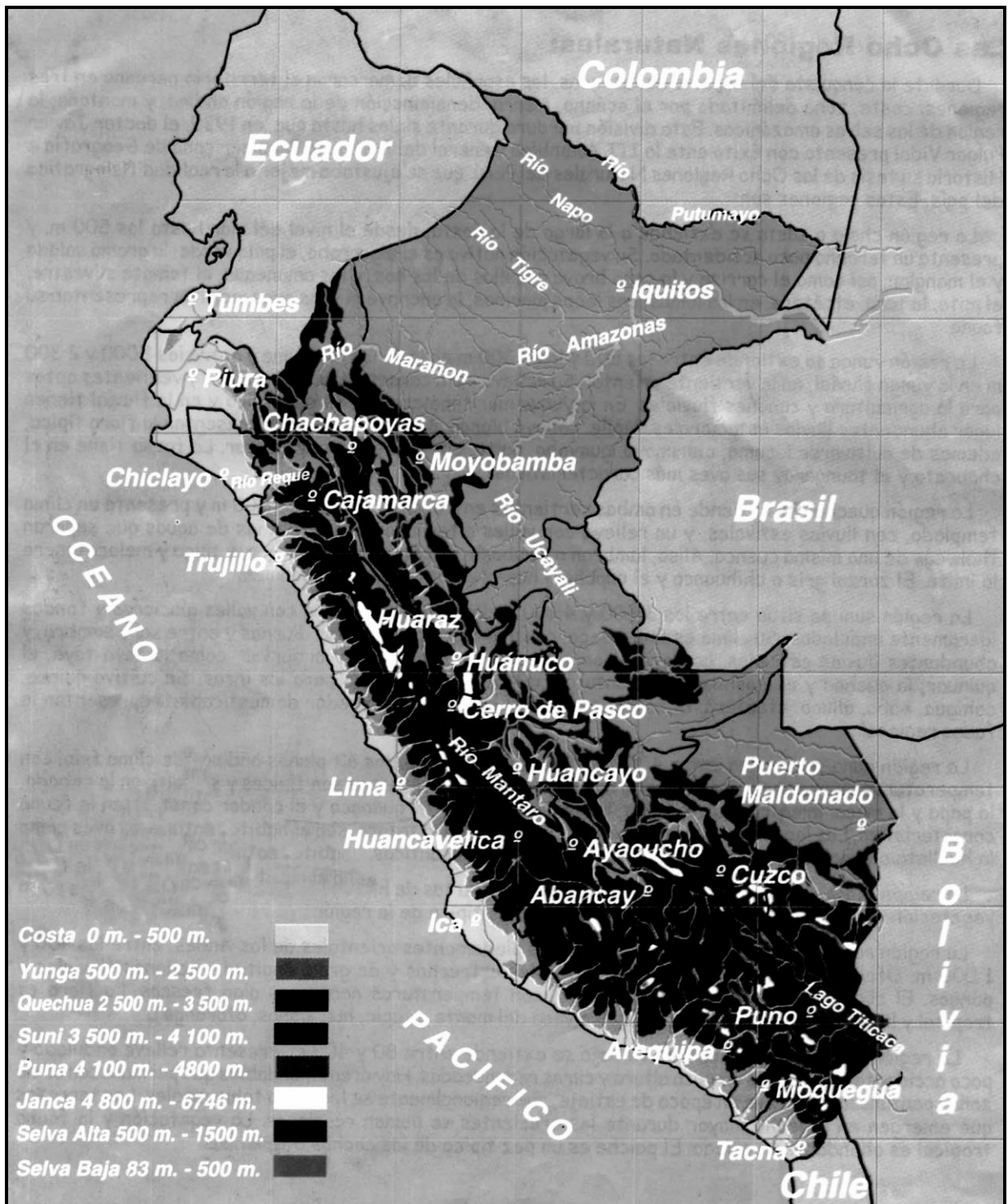
Pero en realidad existen muchas regiones dentro de estas 4 y las vamos a estudiar.



La división en **regiones naturales** es obra de la naturaleza y la **división política** o por departamentos es obra del hombre.



8 regiones naturales o pisos altitudinales



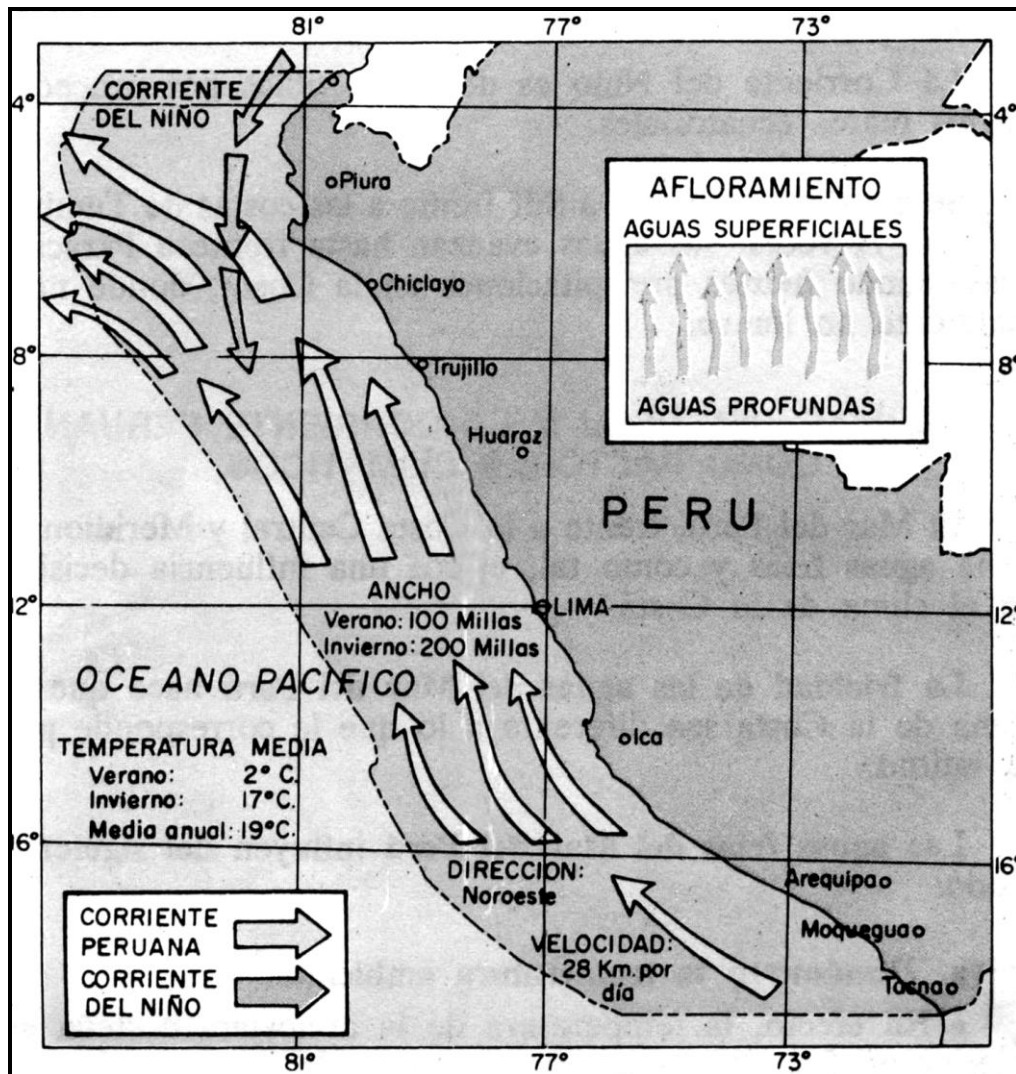
El mar y el litoral del Perú

El Océano Pacífico baña las costas de nuestro país. Sus aguas son de color verde azulado, porque en ellas hay unos seres pequeñísimos (animales y plantas) llamados Pla que sirven de alimento de peces.

Las corrientes marinas.

Las aguas de los océanos están en constante movimiento. Grandes masas de agua forman corrientes, que siguen una dirección definida. Dos grandes corrientes recorren las aguas del mar peruano.

- La corriente peruana de Humboldt, que tiene aguas frías y se mueve hacia el norte.
- La corriente del niño, que tiene aguas cálidas y se desplaza hacia el sur.



Formas de Litoral:

Si observas el Perú con atención, te darás cuenta de que la costa o litoral, ese lugar donde el mar y la tierra se encuentran, no es una línea recta. Algunas formas de relieve del litoral son:



Isla:

Porción de tierra rodeada completamente de agua.

Península:

Porción grande de tierra que entra en el mar y se mantiene unida al continente por un franja estrecha de tierra.

Punta:


Pequeña porción de tierra que entra al mar.

Bahía:

Lugar donde el mar entra al continente. Ahí se instalan por lo general, los puertos.



Observa la imagen, pinta cada uno de los accidentes geográficos y coloca sus nombres.



Dividir la clase en grupos. Cada equipo escoge un accidente geográfico y lo representa en una maqueta.



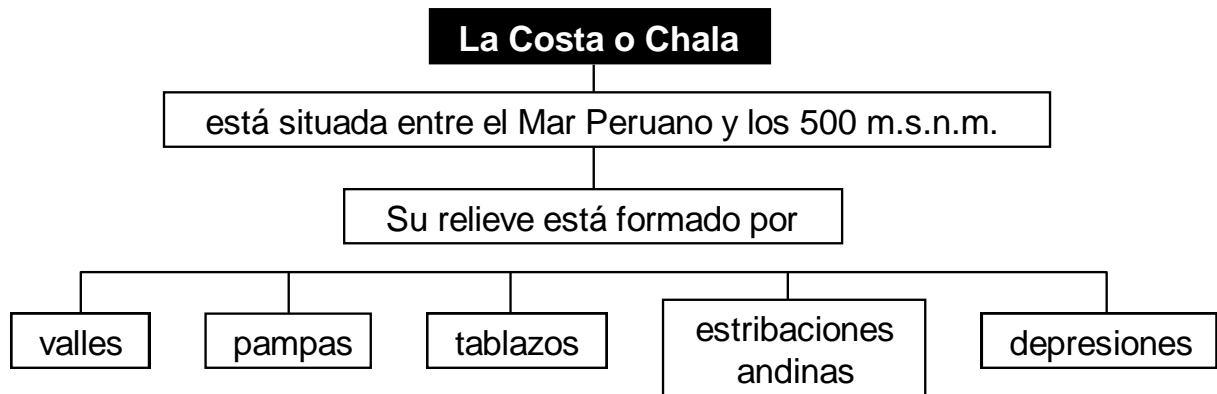
Trabajo Grupal: Elaboramos una maqueta.

- Formar grupo de 6 integrantes.
- Cada grupo elige un accidente geográfico.

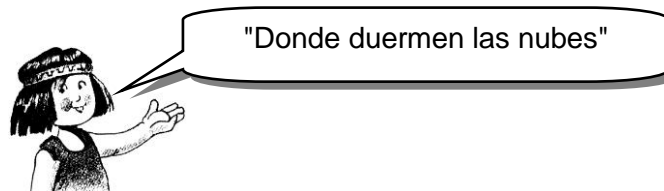
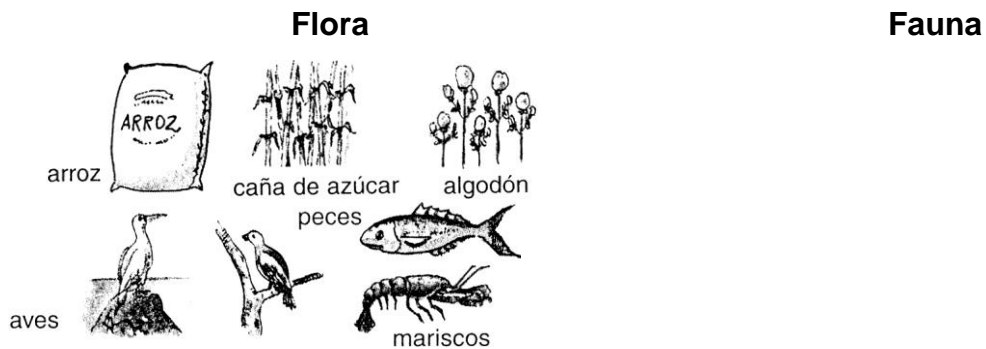
Materiales:

- Triplay de 30 x 30 cm.

- Plastilina grande de colores.



Su **clima** es ligeramente cálido, húmedo y sin lluvias.



A. Los valles

Los **valles** son pequeñas llanuras formadas sobre ambas márgenes de un río, cerca a su desembocadura en el océano Pacífico.


- En los valles se encuentran las mejores **áreas de cultivo del Perú**. Allí trabaja la **población campesina**, produciendo **algodón**, **caña de azúcar** y **alimentos**. También en los valles se encuentran los **pueblos** y las **ciudades costeñas**.

B. Estribaciones andinas

Las **estribaciones andinas** son pequeños cerros que sobresalen en la costa, como San Cosme y San Cristóbal en Lima.

C. Las pampas

Son **pequeñas llanuras áridas** que hay entre los valles. Allí no hay población por la falta de agua y la ausencia de lluvias.




D. Los desiertos

Son lugares en los que falta **agua**, hace muy difícil el desarrollo de la vida. Por ejemplo: el 20 desierto de Sechura en Piura y el de Paracas en Ica.

E. Los tablazos

Son áreas costeras ligeramente elevadas. En los **tablazos de Piura se explota petróleo**. En Ica tenemos



A practicar...

Observa las siguientes ilustraciones y completa las frases con palabras del recuadro:



El Mar peruano mide 200 millas de ancho y pertenece al Sus aguas son y de color azul verdoso debido a los seres microscópicos (plancton) que viven en el mar. Esta región es muy importante para nosotros porque nos proporciona gran variedad de, y El mar también es una vía de

peces – frías – Océano Pacífico – mariscos – comunicación – algas

- Observa el mapa y contesta con las palabras del recuadro:

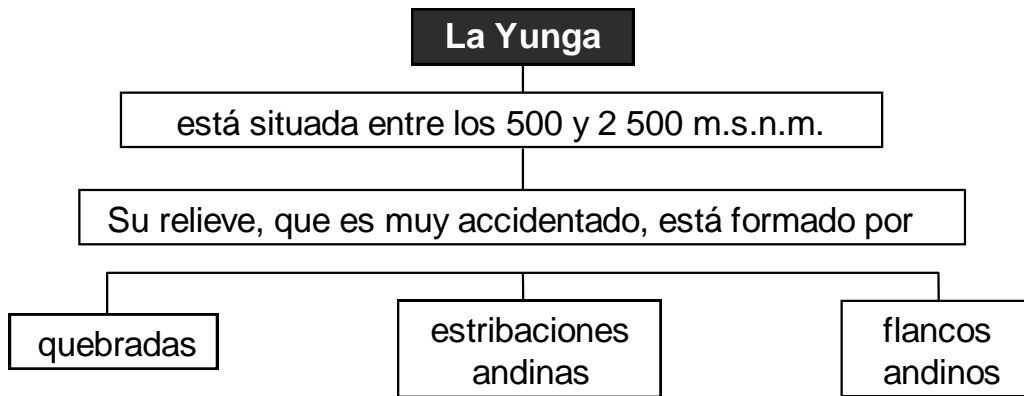
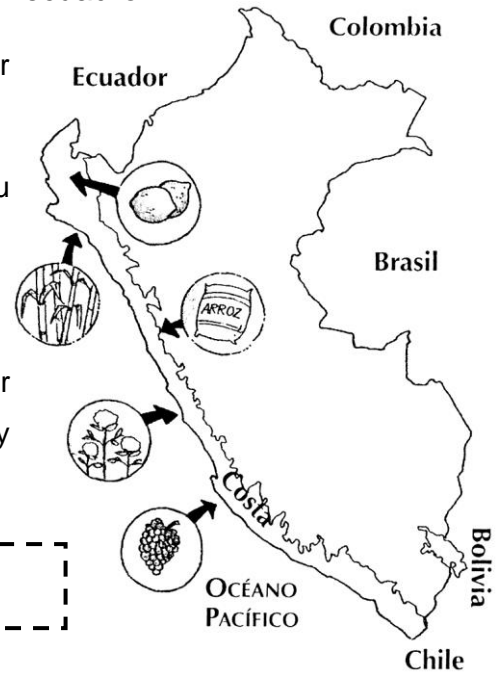
La Costa es una delgada franja bañada por

En su suelo encontramos, cerros, valles y lomas. Su clima es

Algunos pobladores se dedican a la

En esta región se encuentran grandes ciudades, por ejemplo: y

Lima – el mar – Trujillo – pesca – templado



Su **clima** es templado–cálido.

En el verano las lluvias ocasionan huaycos. En la primavera mantiene un clima caliente.

En el invierno, el calor es fuerte al medio día y puede llover levemente por las noches.

Hay poca humedad.

Flora



canchalagua




cactus



caña

Fauna



reptiles



aves

- **Quebradas:**

Zonas estrechas y profundas. En el fondo se observan pequeñas áreas de cultivo.

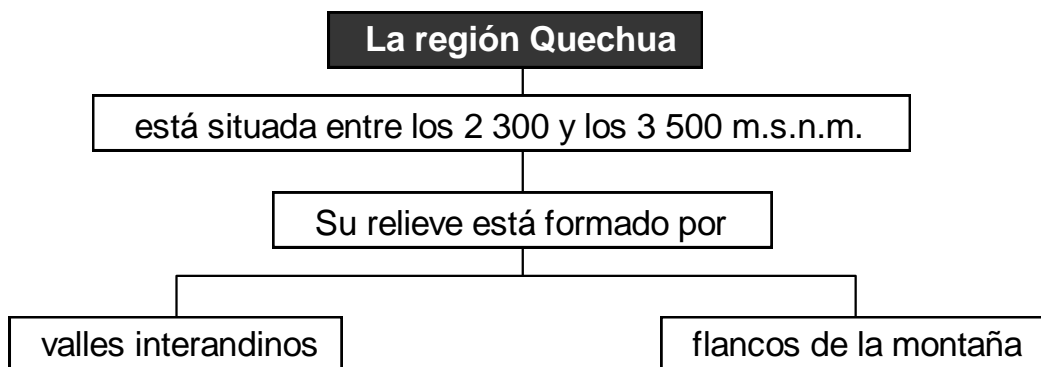
- **Estribaciones andinas:**

Áreas rocosas profundas. Sobre ellas se deslizan los huaycos.



¿Sabías que...?

Yunaa significa "Valle cálido"



Su **clima** es templado y con poca humedad. Calor en el día, frío en la noche. Es considerado uno de los mejores climas del mundo.

Esta región es conocida como la despensa del país por ser una gran zona agropecuaria (agrícola – ganadera).

Flora



maiz




papas



trigo

Fauna

aves




zorros

truchas



ovejas



vacas



Esta es la región **Quechua**, que significa

"Tierra de los climas templados"

- **Valles interandinos:**

Zonas regadas por las aguas de un río. En esta zona se encuentran la mayoría de los pueblos y las ciudades andinas.

- **Flanco de la montaña:**

Zonas de suave pendiente en las cadenas de los cerros o montañas. Tienen abundantes áreas de cultivo.

La importancia de los cultivos:

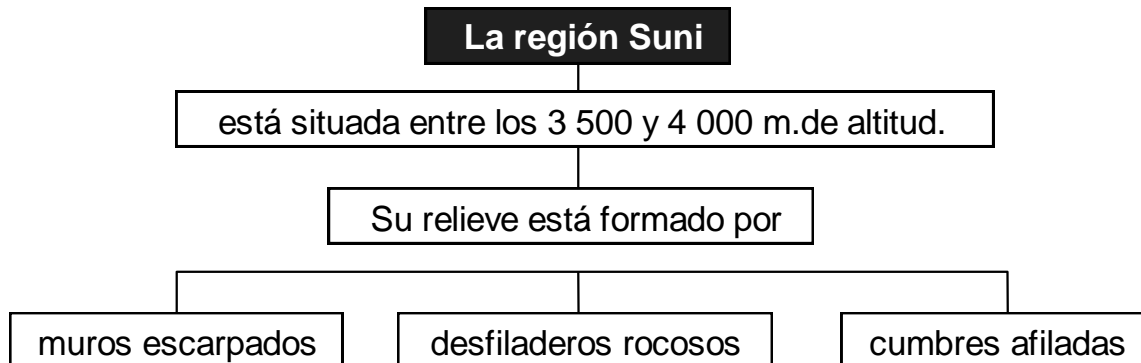
La región Quechua es considerada como una gran despensa ya que, en ella, se pueden cultivar una gran variedad de productos alimenticios. Pero no es la única región, de las que hemos estudiado, donde se pueden cultivar estos productos.

- Forma un equipo de trabajo, investiguen sobre este tema y completen este cuadro:

Producto	Oriundo de la región	Forma de consumo

- Investiga, con tu equipo de trabajo, sobre las diferentes especies de ganado que viven en estas regiones y completa el siguiente cuadro:

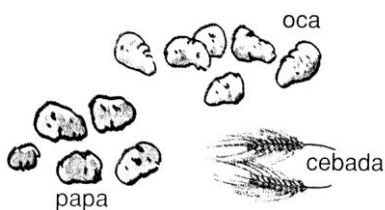
Ganado	Región	Usos



Su **clima** es templado-frío. El aire es bastante seco por lo que la piel se reseca o agrieta, se parten los labios y se secan las manos y la cara.

Durante el invierno la temperatura baja por las noches y origina "las heladas", por eso se le considera la "región de las heladas", fenómeno que afecta seriamente los cultivos.

Flora



Fauna



La presencia de Defensa Civil en estas regiones

Has leído que regiones donde se producen los **huaycos**, debido a las lluvias. En algunas regiones estas lluvias son torrenciales y cargan las lagunas y los ríos con abundante agua, pudiendo producirse **aluviones**.

Las **sequías** y las **inundaciones** son otros desastres que se producen por disminución o aumento de las lluvias o cambios climáticos que ocurren en cualquier momento.

Pero estos desastres, a diferencia de los temblores y terremotos, se pueden evitar o, en último caso, amortiguar el daño que ocasionan.

En estas zonas, se hace presente **Defensa Civil**, no solamente para **ayudar** cuando el problema se ha dado sino desde la **prevención**, que es lo más importante.



Practicando aprendemos más...

Observa con atención un paisaje de esta región y completa las frases con las palabras del recuadro:



nieve – lluvia – cerros – valles –
ríos – nevados

La región Suni es muy accidentada,
encontramos y,
que forman la Cordillera de los Andes.

En la falda de los cerros se observan
hermosos bañados
por que nacen de los nevados.

Su clima es seco y muy variado, tan pronto
puede tener un fuerte Sol puede caer una
..... torrencial.

Los picos de las montañas más altas están
cubiertos de

- Pega en el mapa un animal que viva en la Yunga y Quechua y una planta oriunda.

- **Completa:**

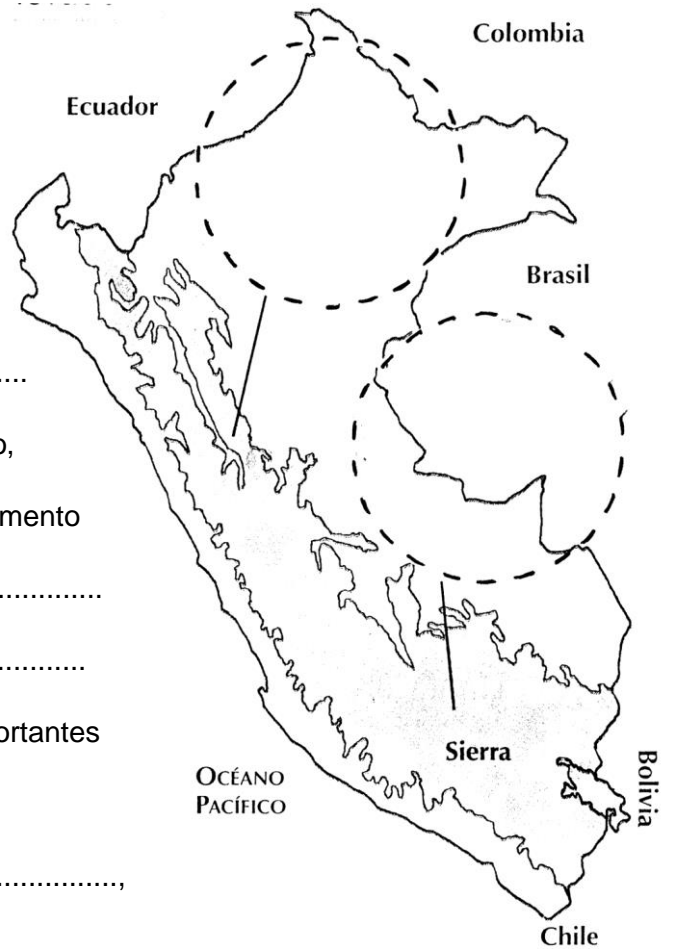
En el departamento de
 se encuentra el lago más alto del mundo,
 el, en el departamento
 de Ancash el nevado
 y en Junín el río

Escribe el nombre de tres ciudades importantes
 de la yunga, quechua y suni:

Yunga:,

Quechua:,

Suni:,,



- **Pinta el significado de los siguientes conceptos, en la sopa de letras, del color que les corresponde:**

Q N P A M P A S T I A N F A
 U V A V A L L E S C S D L N
 E D I A N D I N A S T Y A N
 B N Y U N G A S D C V E N E
 R N T I E R R A D E S O C L
 A U P I M Y T A B L A Z O S
 D T M D E G H U N M I L S A
 A E S T R I B A C I O N E S
 S V T D E P R E S I O N E S

- Rojo:** Zonas estrechas aptas para la agricultura.
- Azul:** Zonas planas no aptas para la agricultura por falta de agua.
- Amarillo:** Zonas rocosas que antes fueron parte del fondo del mar.
- Verde:** Zonas estrechas y profundas.
- Lila:** Áreas rocosas profundas

TAREA DOMICILIARIA

1. Pega imágenes de los siguientes paisajes:

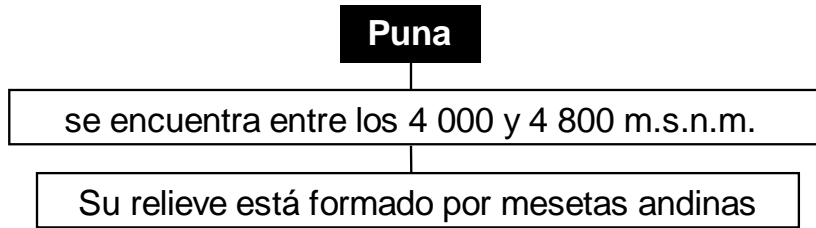
Paisaje típico de
región Yunga.

Paisaje típico de
región Quechua.

Paisaje típico de
región Suni.

Paisaje típico de la
región Chala.

2. Consigue láminas sobre la fauna y flora de la región Puna y de la Janca o Cordillera.

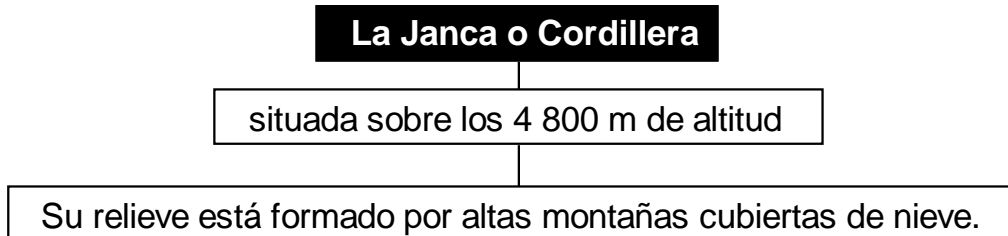


Esta región es temida por el soroche o mal de altura (dolor de cabeza, vómitos, pérdida de conocimiento), que puede afectar a las personas que llegan a ella por primera vez.

Las mesetas: son zonas altas y elevadas.

Su **clima** es frío y seco. En el verano graniza y cae nieve.

Fauna	Flora



Su **clima** es extremadamente frío y seco.

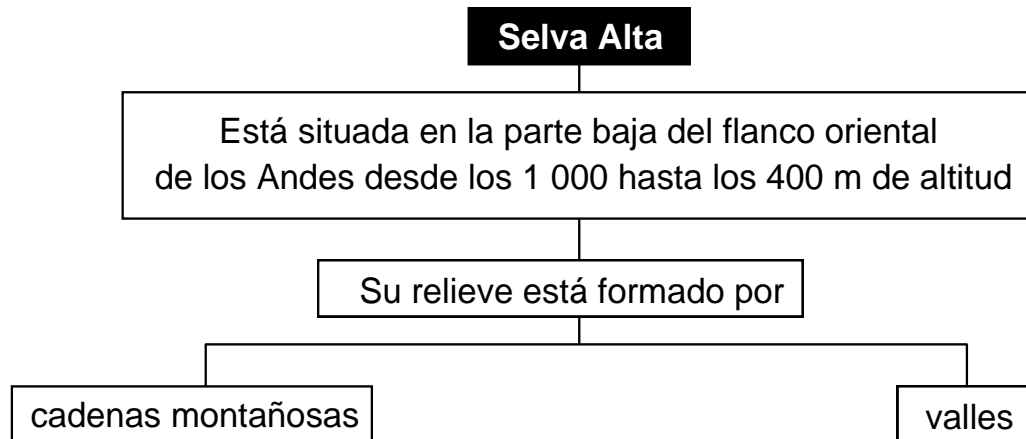
Fauna	Flora

El **Huascarán**, que es el nevado más alto del Perú, y el segundo en Sudamérica. Alcanza una altura de 6 768 m.s.n.m.

Está ubicado en la Cordillera Blanca, en el departamento de Ancash.

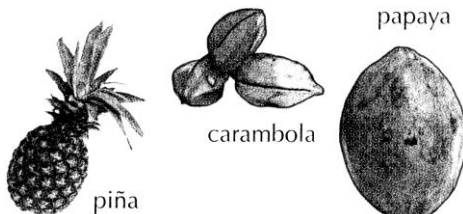
El nevado Alpamayo (6 129 m.s.n.m.) es considerado el nevado más hermoso del mundo. Está ubicado en la Cordillera Blanca, en el departamento de Ancash.

- Pega en tu cuaderno la imagen del Huascarán.



Su **clima** es cálido, húmedo y lluvioso.

Flora



Fauna



¡Uf! ¡Un poco de calor me caerá muy bien!
Estoy en la "**zona ardiente**".

Muchos de los animales que viven en esta región están en **peligro de extinción**. Debemos evitar que esto suceda.


Selva Baja

Está situada debajo de los 400 m.s.n.m.

Su relieve está formado por llanuras.

Su **clima** es caluroso, muy húmedo y lluvioso.

Flora




caimán

Fauna



boa



charapa

En la Selva Alta y la Selva Baja se encuentran las reservas naturales más grandes y hermosas del Perú y de América. En estas reservas están los animales y las plantas libres de los exterminadores.



Esta es la última región del Perú.

La llaman el lugar

"De los peces de agua dulce"

Lectura:

Soy el caimán negro

¡Hola amiguitos!

Soy uno de los reptiles más grandes de la Amazonía peruana, puedo llegar a medir hasta seis metros de largo.

Vivo en los ríos de aguas calmadas de nuestra Selva y me alimento de peces y de tortugas.

He sido muy perseguido y me matan para obtener mi cuero. Con él fabrican correas, zapatos y otros artículos.

También me buscan por mi sabrosa carne. Esto ha causado que muchos de mis amigos hayan desaparecido de los lugares donde habitábamos.

Pero ahora, ¡me siento protegido!, gracias a la preocupación que tienen muchas personas por la naturaleza. Con el establecimiento de los parques y reservas nacionales, estoy nuevamente surcando los ríos de la Selva, con la confianza que seré respetado y preservado.

Responde:

1. ¿Cómo crees que es el aspecto de un caimán negro?

.....
.....

2. ¿Qué otros animales conoces que están en vías de extinción?

.....
.....
.....


3. ¿Qué podemos hacer para cuidar a los animales y a las plantas de nuestras regiones?

.....
.....
.....
.....

A practicar...

- Observa con atención un paisaje de esta región y completa las frases con las palabras del recuadro:

El paisaje que observas pertenece a la región de la Selva que es considerada la más rica del Perú por su variedad de plantas, animales y minerales. Su suelo es llano, está cubierto por tupidos , que sirven de vivienda y alimento a muchos

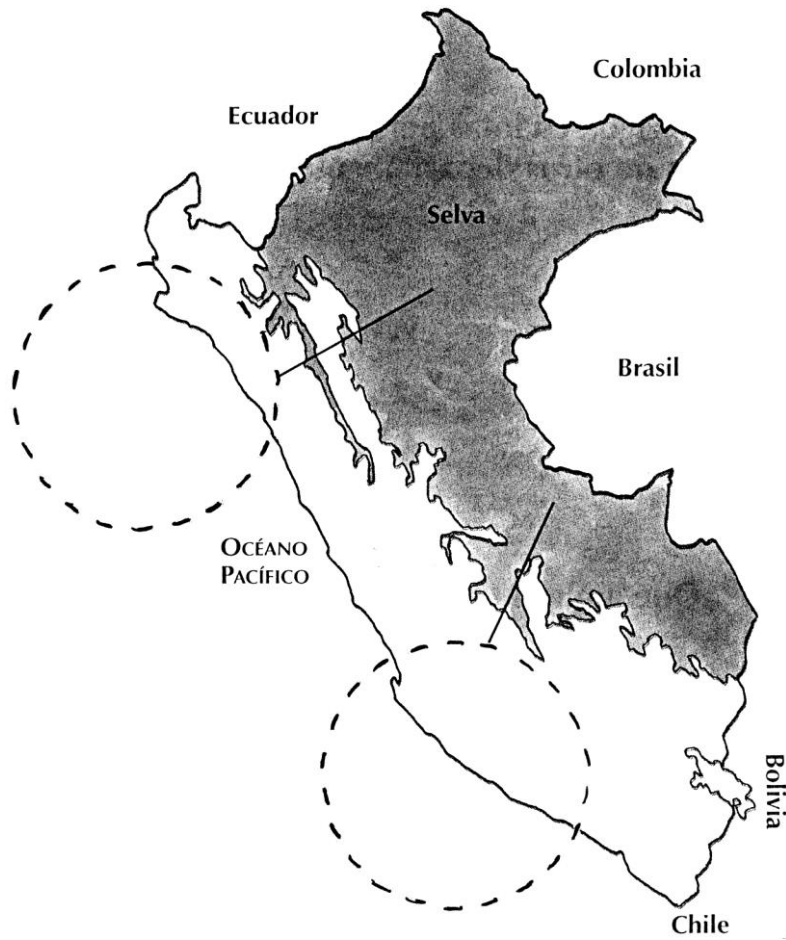


Grandes y caudalosos atraviesan esta región, ellos comunican los pueblos y las ciudades porque son navegables.

Dentro de la variedad de encontramos árboles frutales e industriales de los que se extrae madera, café y cacao.

También existen árboles

animales – ríos – lluvioso – uña de gato
árboles – sangre de grado – plantas



- **Dibuja en el mapa un animal y una planta típica de la Selva.**

Taller:

- Elaboramos una infografía (en tu cuaderno)
- **Investiga:** sobre una de las reservas naturales que están ubicadas en esta región.

Las últimas noticias:

Los animales de la Selva en proceso de extinción

¿Has visto a este animal tan especial?

Te contamos que uno de los animales más exóticos que tiene nuestra Selva es el **pelejo** o **perezoso**, mamífero que se caracteriza por su pelaje largo de color pardo y patas con garras muy desarrolladas y fuertes.

Vive en la copa de los árboles, colgándose de las ramas con sus poderosas uñas. Se alimenta de las hojas de las plantas.



Es conocido como un buen nadador, pero en tierra es sumamente lento. Pasa una buena parte de su vida en los árboles, bajando sólo una vez a la semana para defecar. Este comportamiento responde a la necesidad de protegerse de sus posibles atacantes, ya que la lentitud de sus movimientos lo hacen una presa fácil. Es muy buscado por su piel, razón por la que está en peligro de extinción.

- ¿Qué recomendarías tú cuando un animal está en peligro de extinción?
¿Qué debemos hacer las personas y qué deben hacer las instituciones?

.....
.....

- Investiga qué otros animales están en peligro de extinción y la razón. Con los datos que obtengas, llena el siguiente cuadro:

.....
.....

Animal en proceso de extinción	Razón por la que son cazados

Cada uno de los animales que viven en las diferentes regiones del Perú son parte de un **ecosistema**. Si alguno de ellos empieza a desaparecer, todo el ecosistema al que pertenece corre el mismo peligro.