

2. Ordena los números y hallo la suma:

67 + 21	
D	U

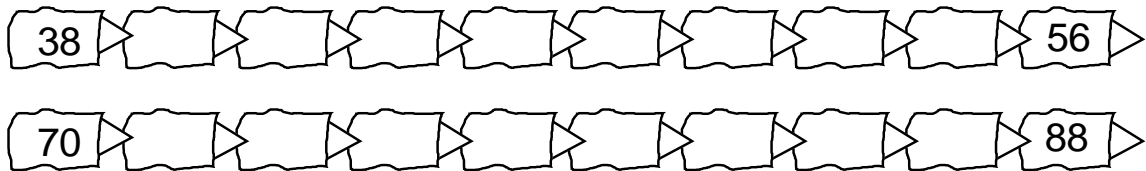
73 + 4	
D	U

81 + 18	
D	U

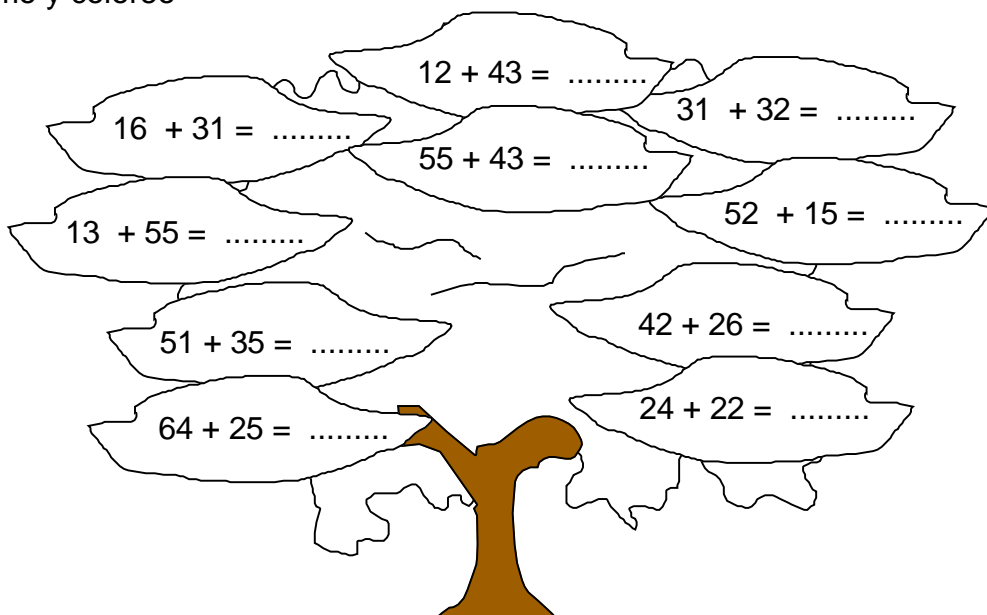
92 + 25	
D	U

85 + 14	
D	U

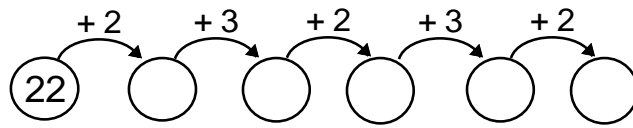
3. Sumo siempre 2.



4. Sumo y coloreo



8. Continúa las sucesiones siguiendo las flechas:



9. Suma:

a)

D	U
1	6
2	2

 +

b)

D	U
3	5
4	1

 +

c)

D	U
6	7
3	1

 +

d)

D	U
5	0
3	2

 +

e)

D	U
8	7
1	2

 +

10. Encuentra el sumando que falta:

$$\begin{array}{l} 10 + \square = 12 \\ \square + 2 = 14 \\ 31 + \square = 36 \\ 42 + \square = 45 \\ 23 + \square = 31 \end{array}$$

$$\begin{array}{l} 24 + \square = 30 \\ \square + 3 = 13 \\ \square + 7 = 27 \\ 22 + \square = 26 \\ 20 + \square = 28 \end{array}$$

$$\begin{array}{r} \square \ 3 \ + \\ 3 \ \square \\ \hline 6 \ 6 \end{array}$$

$$\begin{array}{r} \square \ 3 \ + \\ 2 \ \square \\ \hline 7 \ 4 \end{array}$$

$$\begin{array}{r} 7 \ \square \ + \\ \square \ 6 \\ \hline 9 \ 8 \end{array}$$

$$\begin{array}{r} 6 \ \square \ + \\ \square \ 5 \\ \hline 8 \ 7 \end{array}$$

11. Marca la respuesta correcta:

1. ¿Cuál es la suma de 25 y 33?

- a) 57 b) 58 c) 85 d) N.A.

2. ¿Cuál es el sumando que falta en: $13 + \dots = 55$?

- a) 42 b) 12 c) 32 d) N.A.

3. En la sucesión: 32; 35; 38;; 44; el número que falta es?

- a) 42 b) 41 c) 40 d) N.A.

4. ¿Cuál es la suma de $25 + 14$?

- a) 49 b) 29 c) 39 d) N.A.

5. ¿Cuál es la suma de $5D + 4D$?
 a) 99 b) 90 c) 9 d) N.A.
6. ¿Cuál es la suma de $3D + 8U$?
 a) 38 b) 11 c) 101 d) N.A.

Hacemos Gimnasia Mental

- a) Al mayor número menor que 20 réstale 7.
Respuesta:
- b) De 19 resta el mayor número natural menor que 11.
Respuesta:
- c) Suma los números naturales comprendidos entre 5 y 8 y a esta suma réstale el número comprendido entre 7 y 9.
Respuesta:
- d) María Fé tiene 12 años y Silvana 5 años. ¿Cuál es la suma de ambas edades?
Respuesta:
- e) Compré una decena de tarjetas. ¿Cuánto me falta para tener 17 tarjetas?
Respuesta:
- I. Lee y resuelve:**
1. En una panera amarilla hay 18 panes y en las panera roja 16 panes. ¿Cuántos panes hay en las paneras?

Datos	Operación	Respuesta

2. En el aula de Daniel, el primer día de clases, asistieron 21 niños y 19 niñas.
¿Cuántos alumnos asistieron ese día?

Datos	Operación	Respuesta

3. Lenia tiene 17 años y su hermano Marco tiene 4 años más que ella. ¿Cuántos años tiene Marco?

Datos	Operación	Respuesta

4. Hay 9 manzanas, como 3. ¿Cuántas manzanas quedan?

Datos	Operación	Respuesta

TAREA DOMICILIARIA

1. Suma:

$$\begin{array}{r|l} \text{D} & \text{U} \\ \hline 3 & 5 + \\ 2 & 4 \\ \hline & \end{array}$$

$$\begin{array}{r|l} \text{D} & \text{U} \\ \hline 4 & 2 + \\ 3 & 7 \\ \hline & \end{array}$$

$$\begin{array}{r|l} \text{D} & \text{U} \\ \hline 5 & 6 + \\ 3 & 2 \\ \hline & \end{array}$$

$$\begin{array}{r|l} \text{D} & \text{U} \\ \hline 6 & 3 + \\ 3 & 6 \\ \hline & \end{array}$$

$$\begin{array}{r|l} \text{D} & \text{U} \\ \hline 1 & 0 + \\ 4 & 2 \\ \hline & \end{array}$$

$$\begin{array}{r|l} \text{D} & \text{U} \\ \hline 2 & 1 + \\ 4 & 7 \\ \hline & \end{array}$$

$$\begin{array}{r|l} \text{D} & \text{U} \\ \hline 3 & 6 + \\ 5 & 1 \\ \hline & \end{array}$$

$$\begin{array}{r|l} \text{D} & \text{U} \\ \hline 4 & 5 + \\ 5 & 0 \\ \hline & \end{array}$$

$$\begin{array}{r|l} \text{D} & \text{U} \\ \hline 6 & 2 + \\ 2 & 3 \\ \hline & \end{array}$$

$$\begin{array}{r|l} \text{D} & \text{U} \\ \hline 7 & 6 + \\ 1 & 3 \\ \hline & \end{array}$$

2. Resuelve las sumas:

$60 + 17 = \square$

$21 + 18 = \square$

$32 + 34 = \square$

$82 + 13 = \square$

$45 + 41 = \square$

$27 + 11 = \square$