



UBICACIÓN EN EL ESPACIO

Conozco:

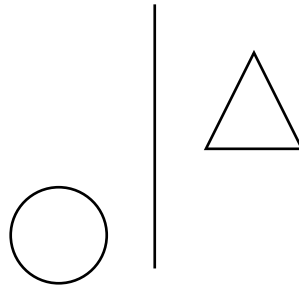


Eje vertical



eje horizontal

Observa la posición de las siguientes figuras con relación a un eje vertical:



Responde:

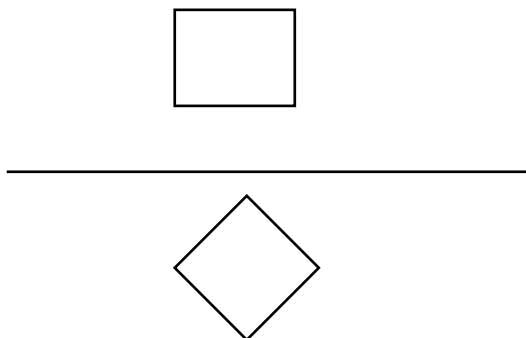
a) ¿Qué figura esta a la derecha del eje vertical?

.....

b) ¿Qué figura está a la izquierda del eje vertical?

.....

Observa la posición de las siguientes figuras con relación a un eje horizontal:



Responde:

a) ¿Qué figura está en la parte superior del eje horizontal?


.....

b) ¿Qué figura está en la parte inferior del eje horizontal?

.....

Práctica de clase

- 01. Traza un eje vertical y dibuja una mesa a la derecha y una silla a la izquierda del eje.
- 02. Traza un eje horizontal y dibuja un lápiz en la parte superior y un árbol en la parte inferior del eje.
- 03. Traza un eje vertical y dibuja un árbol en la parte derecha y un polo en la parte izquierda del eje.
- 04. Traza un eje horizontal y dibuja un sol en la parte superior y una mesa en la parte inferior.
- 05. Ahora cruzamos los ejes (horizontal y vertical). Observa y contesta:



a) ¿Qué objetos están a la derecha del eje vertical?

.....

b) ¿Qué objetos están a la izquierda del eje vertical?

.....

c) ¿Qué objetos están en la parte superior del eje horizontal?

.....

d) ¿Qué objetos están en la parte inferior del eje horizontal?

.....

e) ¿Qué objeto está en la parte superior derecha?

.....

f) ¿Qué objeto está en la parte inferior derecha?

.....

g) ¿Qué objeto está en la parte superior izquierda?

.....

h) ¿Qué objeto está en la parte inferior izquierda?

.....

06. Traza los ejes vertical y horizontal, dibuja:

- La “i” en la parte superior izquierda.
- La “e” en la parte inferior derecha.
- La “o” en la parte superior derecha.
- La “u” en la parte inferior izquierda.
- Un gato en la parte superior izquierda.
- Un sombrero en la parte inferior derecha.
- Un queso en la parte inferior izquierda.
- Un ratón en la parte superior derecha.

TAREA DOMICILIARIA

- En tu cuaderno...
 1. Traza un eje vertical y dibuja un borrador en la parte derecha y una regla en la parte izquierda del eje.
 2. Traza un eje horizontal y dibuja una tijera en la parte superior y una ventana en la parte inferior.

3. En tu cuaderno, traza los ejes y dibuja:

- Un globo en la parte superior izquierda.
- Un corazón en la parte superior derecha.
- Una pelota en la parte inferior derecha.
- Un trompo en la parte inferior izquierda.

4. Observa y responde en tu cuaderno:

a) ¿Qué astro está en la parte superior derecha?

.....

b) ¿Qué astro está en la parte inferior izquierda?

.....

c) ¿Qué astro está en la parte inferior derecha?

.....

d) ¿Qué astro está en la parte superior izquierda?

.....

