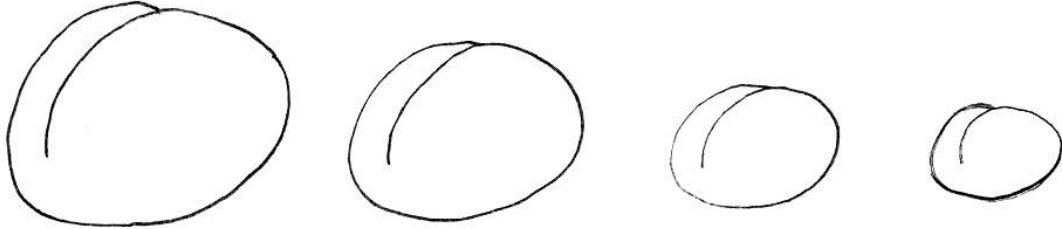


UNIDADES DE MASA

- Usamos el kilogramo

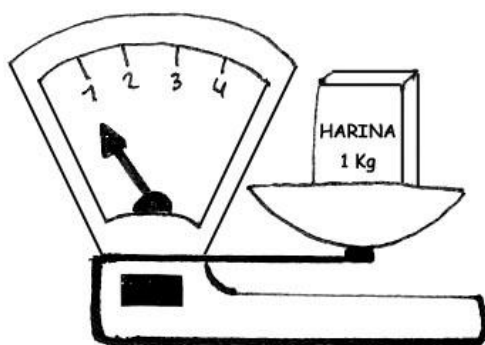



La harina sirve para hacer los panes. Para la compra de harina, se utiliza la unidad de masa: **El Kilogramo.**

$$1 \text{ Kilogramo} = 1\,000 \text{ gramos}$$

Conozco las unidades de mas
Observa y dialogamos:





Usamos la balanza para medir la masa de los cuerpos.

HAY DIFERENTES TIPOS DE BALANZA

Como observaste anteriormente hay diferentes tipos de balanza a que mostramos algunos.




No lo olvides ...


Para medir la masa de un objeto se utiliza la balanza

Práctica de clase


01. Indica la medida que indica la balanza.




Hay..... kg de masa



Hay kg de masa



Hay kg de masa



Hay kg de masa




Hay kg de masa





Hay kg de masa

02. Encierra en un círculo ROJO los alimentos que tú crees que son más pesados y en un círculo AZUL los livianos.



03. Colorea las cosas que pesan más que el primero.





En una joyería se vende por la mañana 96 g de oro y por la tarde 38 g menos que en la mañana. ¿Cuántos gramos se vendió por la tarde?

Solución

Respuesta

Elena compra 29 kg de papas y 27 kg de yucas. ¿Cuántos kilogramos compra en total?

Solución



Respuesta



Luisa lleva 92 kg de uva al mercado y logra vender 63 kg. ¿Cuántos kilogramos de uva le quedan?

Solución

Respuesta

Desafío tu habilidad

Lee y resuelve en tu cuaderno

1. Antonio compró 56 kg de pasas y Jaime 38 kg. ¿Cuántos Kg de pasas compraron en total?
2. Carlos tiene 90 Kg de ciruela y vende 52 kg. ¿Cuántos Kg de ciruela le quedan?
3. Carmen tiene 80 Kg de pallares y vende la mitad. ¿Cuántos Kg de pallares vendió?
4. Ricardo vende 27 Kg. de azúcar y Javier vende el doble de lo que vendió Ricardo. ¿Cuántos Kg de azúcar vendió Javier?
5. Crea y resuelve un problema de suma sobre masa.
6. Crea y resuelve un problema de resta sobre masa

TAREA DOMICILIARIA

01. Marca con una x en el recuadro lo que pesa más, en cada relación.

1 manzana

1 limón

1 camote

1 sandía

1 piña

1 ciruela

02. Marca con una x lo que pesa menos:

1 lápiz

1 cartuchera

1 caramelo

1 vaso de gelatina

1 cuaderno

1 mochila

1 paquete de galleta

1 torta

03. Investiga y completa:

Tu mamá pesa:

Tú papá pesa:

Tú pesas:

Tu amiga pesa:

Tu hermano/a pesa: